

## Le reti elettriche in alternata (R-C ; R-L ; R-L-C)

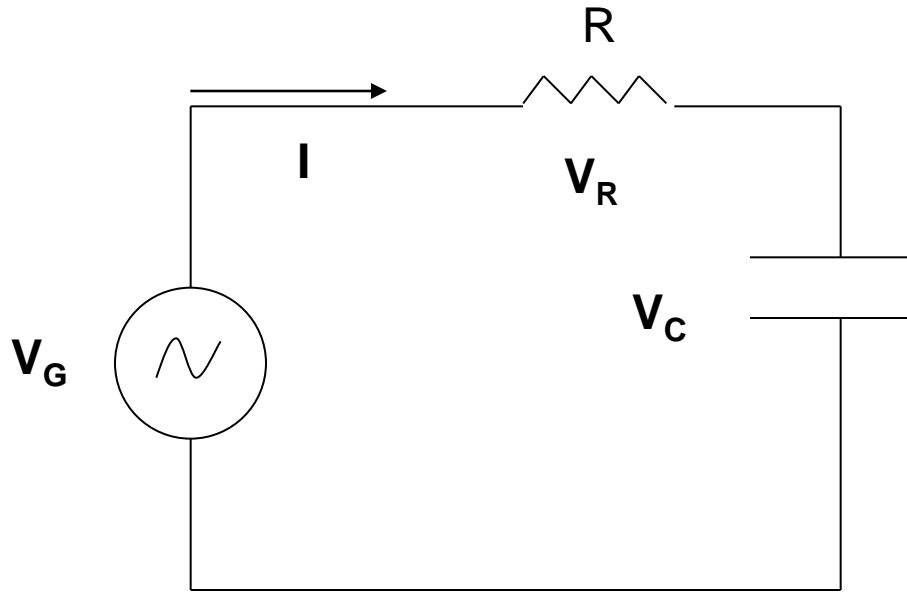
Le reti elettriche possono contenere i componenti R, C, L collegati fra di loro in modo qualsiasi ed in quantità qualsiasi. Il loro studio in alternata parte dall'analisi delle reti più semplici e poi passare allo studio di una rete qualsiasi.

Le reti più semplici sono costituite da:

1. due componenti R = resistenza e C = condensatori collegati in serie o in parallelo.
2. due componenti R = resistenza e L = induttanza collegati in serie o in parallelo.
3. tre componenti R = resistenza, C = condensatori e L = induttanza collegati in serie o in parallelo.

Proseguiremo quindi nell'ordine stabilito adesso, per poi fare il caso generale.

## Le reti elettriche in alternata (R-C)

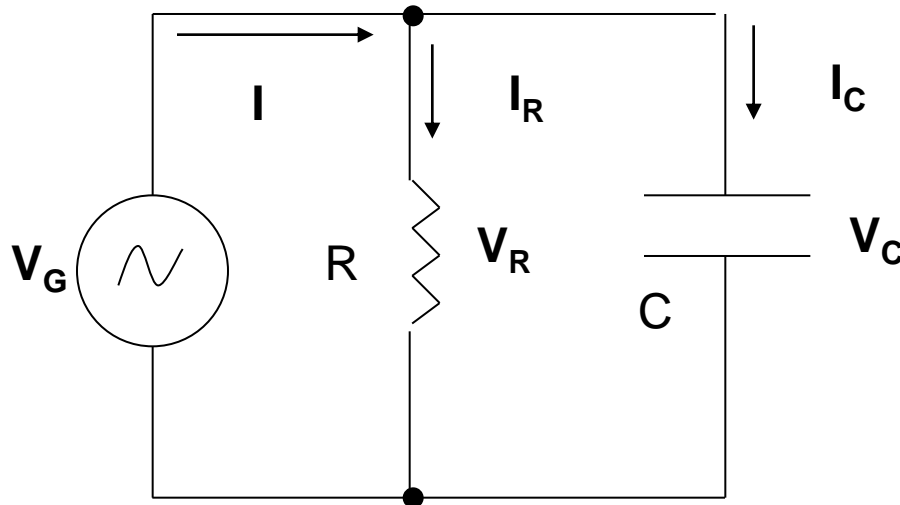


### Circuito R-C serie:

Questo circuito ha **una sola** corrente che percorre sia  $R$  che  $C$ .

Invece le tensioni sono **tre**  $V_G$ ,  $V_R$ ,  $V_C$ .

Ricordiamo che la tensione (V) è una energia (J) per unità di carica (C).

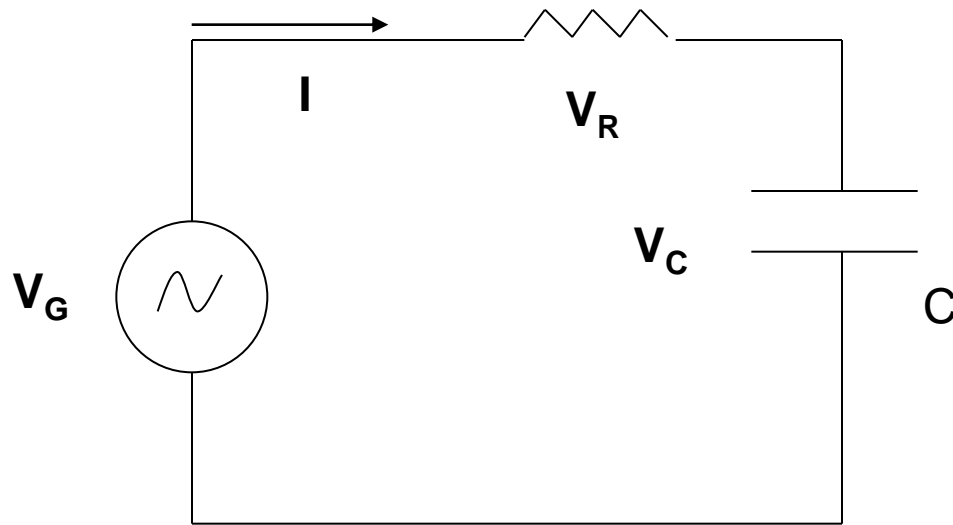


### Circuito R-C parallelo:

Questo circuito ha **una sola** tensione che si localizza ai capi di  $V_G$  di  $R$  e di  $C$ .

Invece le correnti sono **tre**  $I$ ,  $I_R$ ,  $I_C$ .

## Le reti elettriche in alternata (R-C serie)



Questo circuito si studia applicando la legge di Kirchoff alle tensioni.

Questa legge stabilisce una relazione energetica tra i componenti presenti nella maglia: la tensione che istante per istante fornisce il generatore si deve distribuire tra la resistenza e il condensatore.

Quindi scriviamo la relazione vettoriale appena enunciata.

$$\vec{V}_G = \vec{V}_R + \vec{V}_C$$

## Le reti elettriche in alternata (R-C serie)

Adesso teniamo conto della legge di OHM per i due componenti R e C, inserendola nella legge di Kirchoff

$$\vec{V}_G = \vec{V}_R + \vec{V}_C = R \cdot \vec{I} + \overline{X}_C \cdot \vec{I} = \vec{I} \cdot (R + \overline{X}_C)$$

la quantità tra parentesi tonda è chiamata

**IMPEDENZA**  $\vec{Z}$  ( $\Omega$ ):  $\vec{Z} = R + \overline{X}_C$

L'inverso dell'impedenza Z prende nome **AMMETTENZA** Y

$$Y = \frac{1}{Z}$$

## Le reti elettriche in alternata (R-C serie)

$$\vec{V}_G = \vec{I} \cdot (R + \vec{X}_C) = \vec{Z} \cdot \vec{I}$$

$$\vec{V}_G = \vec{Z} \cdot \vec{I}$$

Esempio:

$$R = 10 \Omega, X_C = -j 2 \Omega, I = 2+j3 \text{ A}$$

Calcolare  $V_G, V_R, V_C$ .

$$Z = 10 - j2 \Omega$$

$$V_G = Z I = (10-j2)(2+j3) = 20+j30-j4+6$$

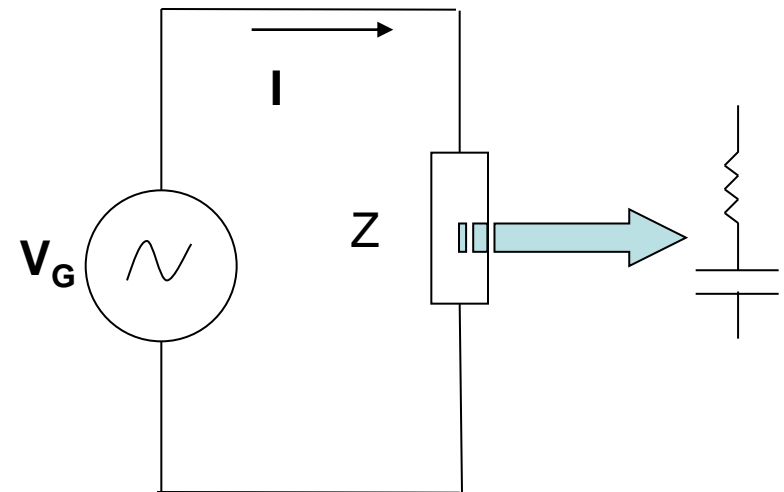
$$V_G = 26+j26 \text{ V}$$

$$V_R = R I = 10(2+j3) = 20+j30 \text{ V}$$

$$V_C = X_C I = (-j2)(2+j3) = -j4+6 = 6-j4 \text{ V}$$

L'ultima formula ci suggerisce un modo per interpretare il circuito:

Esso si comporta come un unico componente, chiamato **impedenza Z** al cui interno sono conglobati sia R che C, al quale si può applicare la legge di OHM.



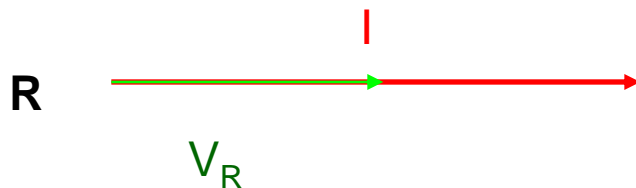
## Le reti elettriche in alternata (R-C serie)

L'esempio appena svolto ci suggerisce una interpretazione grafica molto interessante e molto **utilizzata**. Riscriviamo i risultati ottenuti:

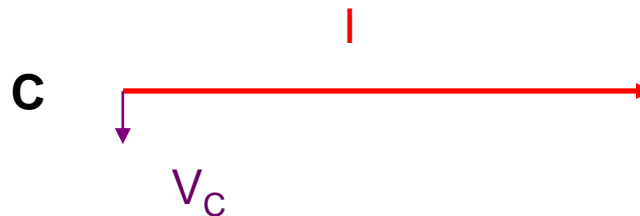
1.  $V_G = 26 + j26$  V,  $V_R = 20 + j30$  V,  $V_C = 6 - j4$  V
2.  $R = 10$   $\Omega$ ,  $X_C = -j 2$   $\Omega$ ,  $Z = 10 - j2$   $\Omega$
3.  $I = 2 + j3$  A

Trattiamo il punto 1).

Conosciamo il diagramma vettoriale tra tensione e corrente sia per le resistenze che per i condensatori, adesso utilizziamoli e verifichiamo che l'esempio sia coerente con la teoria.



Sulla resistenza tensione e corrente sono in fase



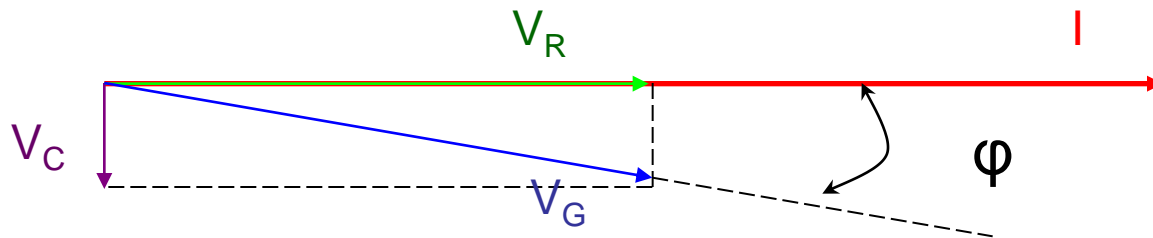
Sul condensatore la corrente è in anticipo sulla tensione di  $90^\circ$

NOTA: I VETTORI  $V_R$  E  $V_C$  SONO DISEGNATI IN PROPORZIONE **CORRETTA**

## Le reti elettriche in alternata (R-C serie)

I due diagrammi vettoriali di solito si disegnano in un unico grafico per determinare anche la tensione  $V_G$  e l'angolo di fase tra questa tensione e la corrente  $I$  che circola nel circuito.

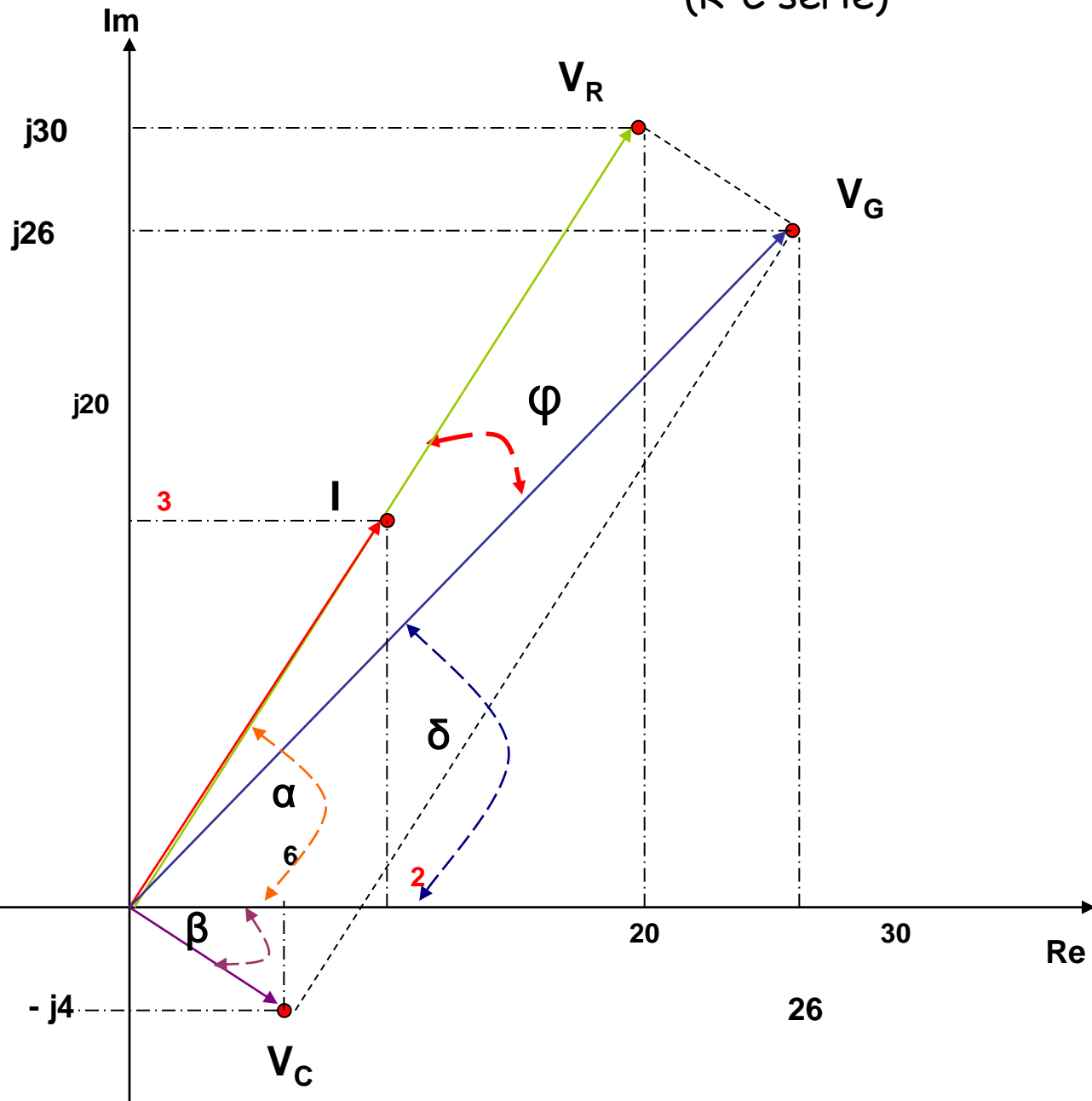
Il diagramma si costruisce disegnando per **prima** il vettore **corrente I**, poiché è lo stesso per tutti componenti, che sono in serie. Esso può essere disegnato in una posizione qualsiasi, normalmente orizzontale. Poi rispetto ad esso si disegnano gli altri vettori di tensione.



Come si calcolano la tensione  $V_G$  e l'angolo  $\varphi$  ?

Disegniamo sul piano di Gauss le tre tensioni e la corrente e successivamente paragoniamo il grafico ottenuto con quello disegnato in questa pagina.

# Le reti elettriche in alternata (R-C serie)



$$V_G = 26 + j26 \text{ V}$$

$$V_R = 20 + j30 \text{ V}$$

$$V_C = 6 - j4 \text{ V}$$

$$I = 2 + j3 \text{ A}$$



5 V



1 A



## Le reti elettriche in alternata (R-C serie)

Dal grafico precedente si ricava già visivamente che l'angolo tra  $I$  e  $V_C$  è di  $90^\circ$ . Tuttavia ora possiamo calcolarlo anche analiticamente.

Riportiamo ancora una volta i risultati dell'esercizio:

$$\mathbf{V_G = 26 + j26 \text{ V}}$$

$$\mathbf{V_R = 20 + j30 \text{ V}}$$

$$\mathbf{V_C = 6 - j4 \text{ V}}$$

$$\mathbf{I = 2 + j3 \text{ A}}$$

Angolo che si forma rispettivamente tra  $V_R$  (o  $I$ ),  $V_C$ ,  $V_G$  e l'asse reale positivo  $Re$ :

$$\alpha = \arctg(30/20) = \arctg(1,5) = \mathbf{56,3^\circ \text{ (} V_R \text{ e } Re)}$$

$$\beta = \arctg(-4/6) = \arctg(-0,667) = \mathbf{-33,7^\circ \text{ (} V_C \text{ e } Re)}$$

$$\delta = \arctg(26/26) = \arctg(1) = \mathbf{45^\circ \text{ (} V_G \text{ e } Re)}$$

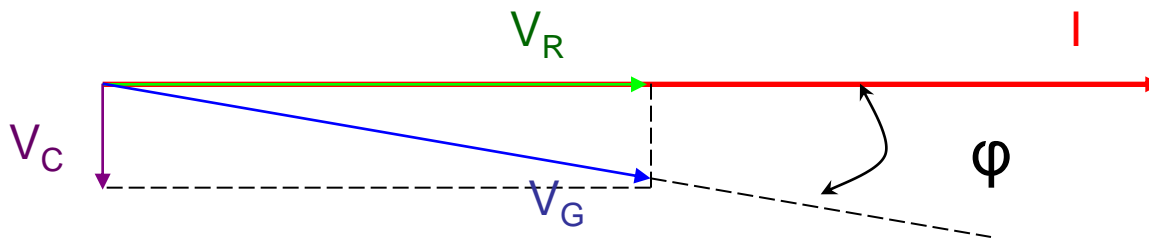
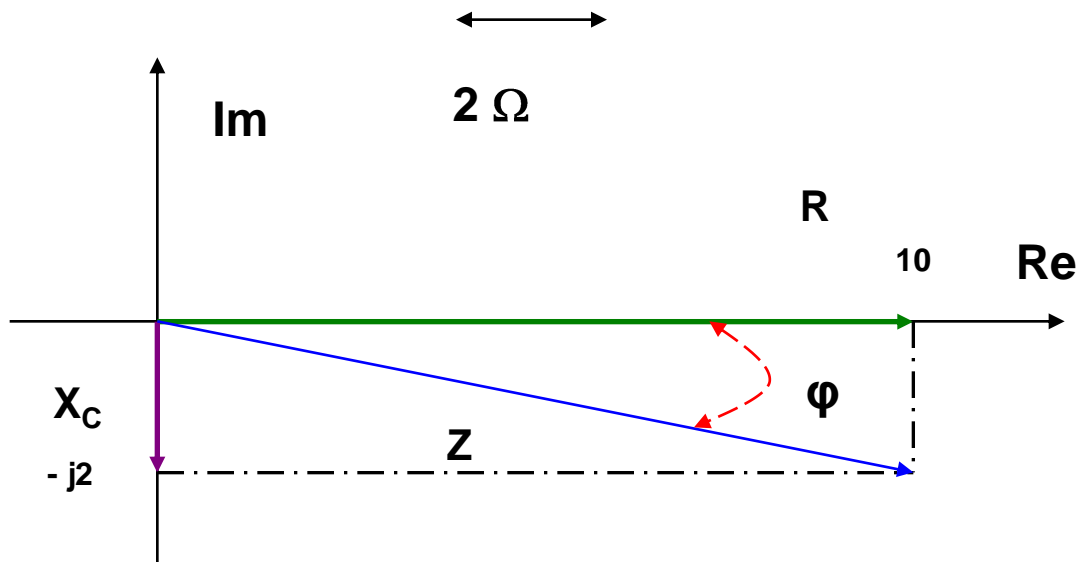
Se sommiamo  $\alpha$  e  $\beta$  (in modulo) otteniamo  $90^\circ$ , mentre l'angolo tra  $V_G$  e  $I$  è

$$\varphi = \alpha - \delta = 56,3^\circ - 45^\circ = \mathbf{11,3^\circ \text{ (angolo importante!!)}}$$

# Le reti elettriche in alternata (R-C serie)

Trattiamo adesso il punto 2) della diapositiva n° 6

$$R = 10 \Omega, \quad X_C = -j2 \Omega, \quad Z = 10 - j2 \Omega$$



Da questo grafico si nota subito che anche  $R$ ,  $X_C$ , e  $Z$  formano un diagramma vettoriale con vettori proporzionali alle rispettive tensioni e con le stesse relazioni di fase. Quindi il valore di  $\varphi$  anche in questo caso deve valere  $11,3$ .

Infatti:

$$\varphi = \arctg(-2/10) = -11,3$$

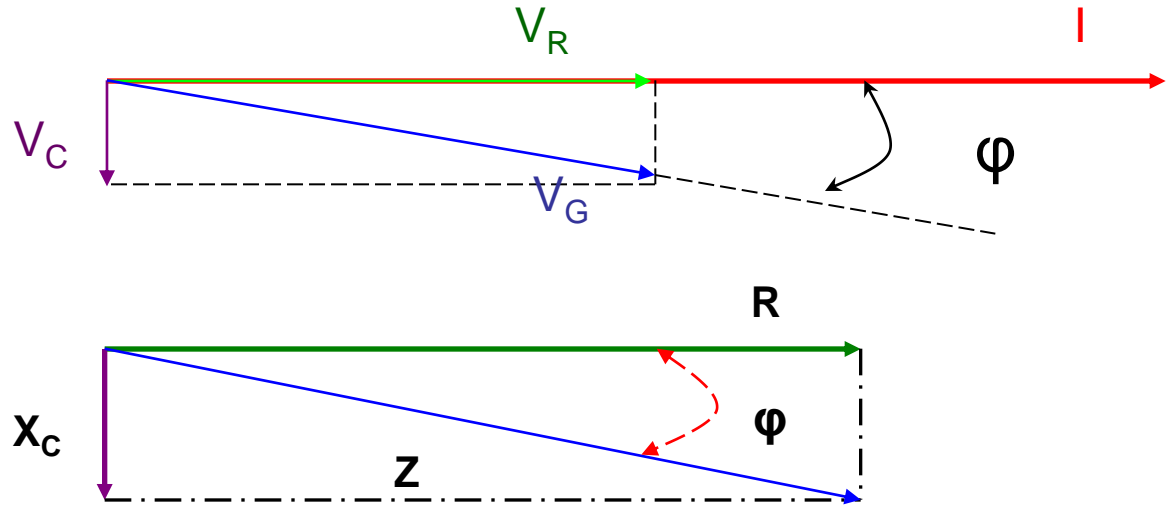
# Le reti elettriche in alternata (R-C serie)

## Riepilogo

$$\vec{V}_G = \vec{I} \cdot (R + \vec{X}_C) = \vec{Z} \cdot \vec{I}$$

$$\vec{V}_G = \vec{Z} \cdot \vec{I}$$

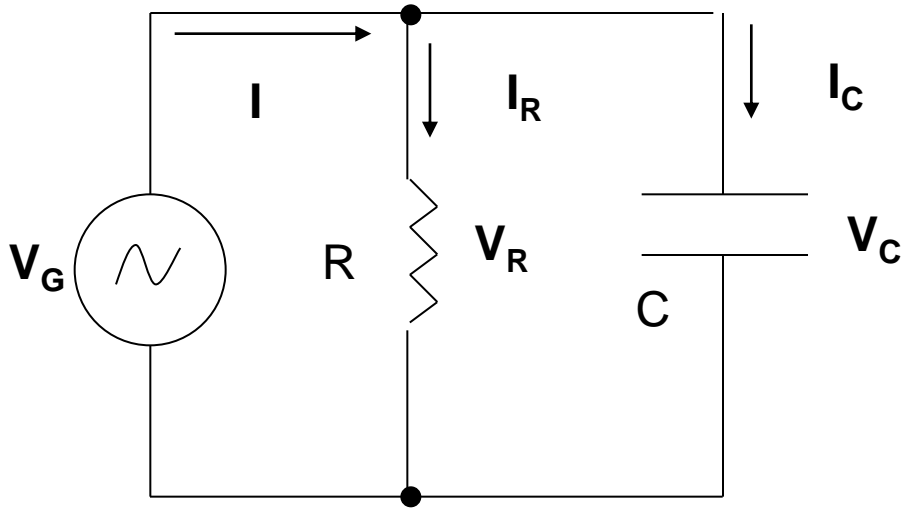
$$\vec{X}_C = \frac{-j}{\omega \cdot C} = \frac{-j}{2 \cdot \pi \cdot f \cdot C}$$



Dalla formula della reattanza capacitiva  $X_C$  si deduce una importante proprietà dei condensatori: **all'aumento** della frequenza " f " la reattanza  $X_C$  **diminuisce**.

Ad una frequenza teoricamente **infinita** la reattanza diventa **zero**, cioè il condensatore si comporta come un **corto circuito**. Tale risultato è molto importante in elettronica.

## Le reti elettriche in alternata (R-C parallelo)



Questo circuito si studia applicando la legge di Kirchoff alle correnti.

Questa legge stabilisce una relazione di conservazione della carica tra i componenti in parallelo: la corrente che istante per istante fornisce il generatore si deve dividere tra la resistenza e il condensatore.

Quindi scriviamo la relazione vettoriale appena enunciata.

$$\vec{I} = \vec{I}_R + \vec{I}_C$$

## Le reti elettriche in alternata (R-C parallelo)

Adesso teniamo conto della legge di OHM per i due componenti R e C, inserendola nella legge di Kirchoff

$$\vec{I} = \vec{I}_R + \vec{I}_C$$

$$\vec{I} = \frac{\vec{V}_R}{R} + \frac{\vec{V}_C}{X_C}$$

siccome le tensioni sono uguali (parallelo) possiamo scrivere

$$\vec{V}_R = \vec{V}_C = \vec{V}_G$$

$$\vec{I} = \frac{\vec{V}_G}{R} + \frac{\vec{V}_G}{X_C} = \vec{V}_G \cdot \left( \frac{1}{R} + \frac{1}{X_C} \right) = \vec{V}_G \cdot \left( \frac{\vec{X}_C + R}{R \cdot X_C} \right)$$

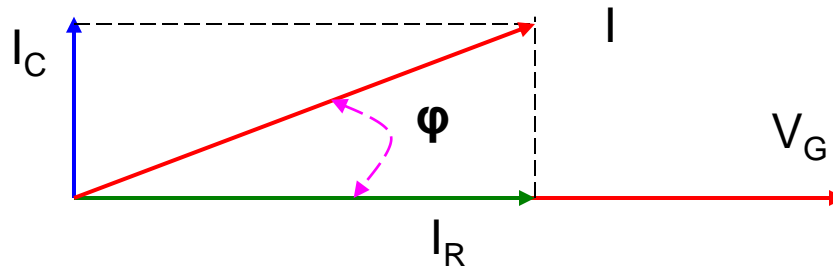
$$\vec{V}_G = \vec{I} \cdot \left( \frac{R \cdot \vec{X}_C}{X_C + R} \right)$$

$$Z = \frac{R \cdot \vec{X}_C}{X_C + R}$$

$$Y = \frac{1}{Z}$$

## Le reti elettriche in alternata (R-C parallelo)

Il diagramma si costruisce disegnando per **prima** il vettore **tensione**  $V_G$ , poiché è la stessa per tutti componenti, che sono in parallelo. Esso può essere disegnato in una posizione qualsiasi, normalmente orizzontale. Poi rispetto ad esso si disegnano gli altri vettori di corrente.



## Le reti elettriche in alternata (R-C parallelo)

Facciamo un esercizio su questo diagramma supponendo di avere i seguenti valori:

$$R = 100 \Omega, \quad X_C = -j5 \Omega, \quad V_G = 20 + j40 \text{ V}$$

Calcolare  $I$ ,  $I_R$ ,  $I_C$ .

$$I_R = \frac{V_G}{R} = \frac{20 + j40}{100} = \frac{20}{100} + j \frac{40}{100} = 0,2 + j0,4 \text{ A}$$

$$I_C = \frac{V_G}{X_C} = \frac{20 + j40}{-j5} = \frac{20}{-j5} + \frac{j40}{-j5} = \frac{-4}{j} - 8 = j4 - 8 = -8 + j4 \text{ A}$$

Il calcolo di  $I$  si può ottenere in due modi equivalenti: 1) applicando il principio di Kirchoff alle correnti; 2) calcolando l'impedenza  $Z$  e usando la legge di Ohm per tutto il circuito.

$$I = I_R + I_C = \langle 0,2 + j0,4 \rangle + \langle -8 + j4 \rangle = -7,8 + j4,4 \text{ A}$$

## Le reti elettriche in alternata (R-C parallelo)

Calcoliamo l'impedenza  $Z$  del circuito:  $R = 100 \Omega$ ,  $X_C = -j5 \Omega$ ,  $V_G = 20+j40 \text{ V}$

$$Z = \frac{R \cdot X_C}{R + X_C} = \frac{100 \cdot (-j5)}{100 + (-j5)} = \frac{-j500}{100 - j5} = \frac{-j500}{100 - j5} \cdot \frac{100 + j5}{100 + j5} = \frac{(-j500)(100 + j5)}{100^2 + 5^2}$$
$$Z = \frac{-j50000 + 2500}{10000 + 25} = \frac{2500 - j50000}{10025} = \frac{2500}{10025} - j \frac{50000}{10025} = 0,249 - j4,98 \Omega$$

Questo risultato ci mostra come il circuito **parallelo** equivalga ad un circuito **serie** che come resistenza un valore  $0,249 \Omega$  ed un condensatore di reattanza  $-j4,98 \Omega$ .

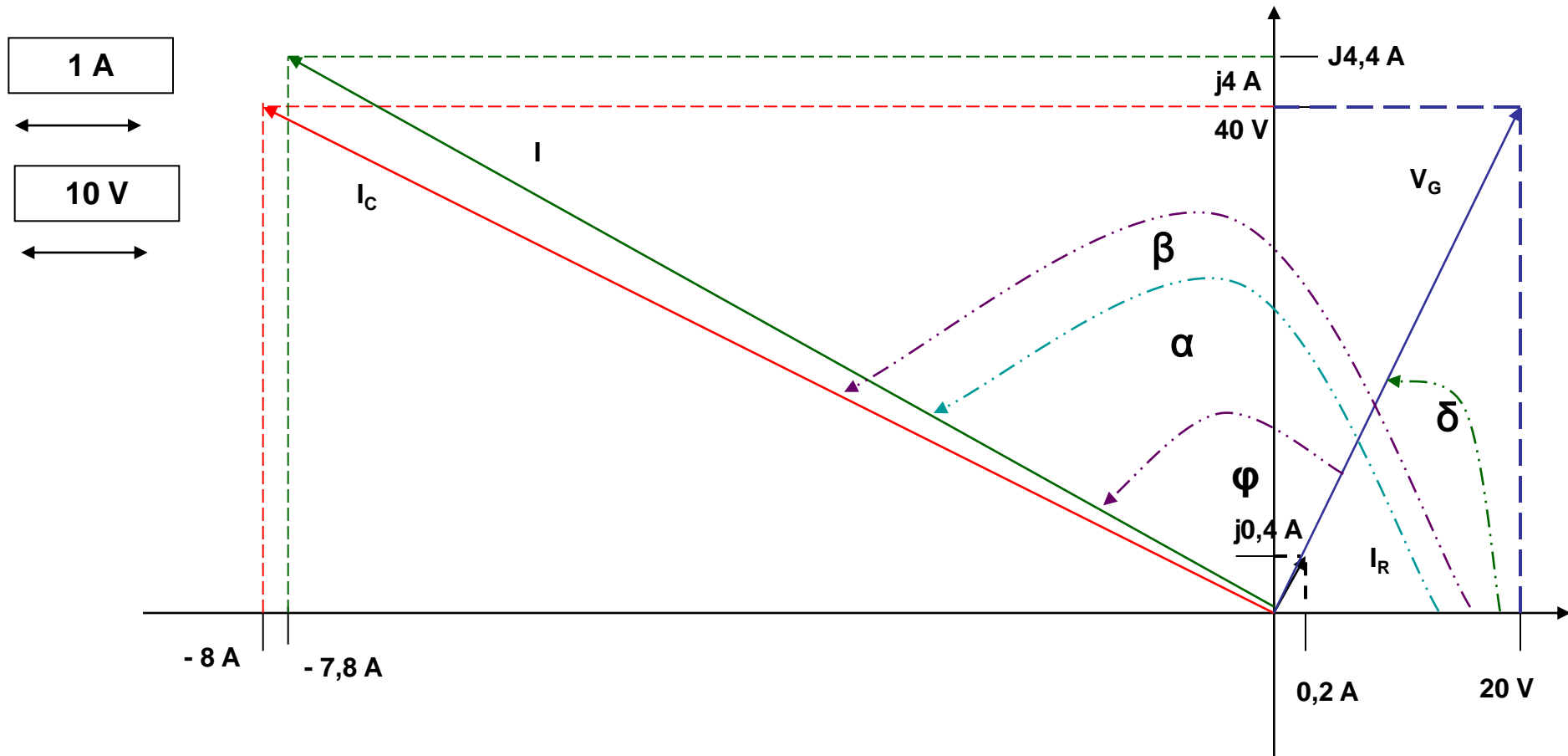
Questo risultato si può dimostrare che è sempre vero: un circuito parallelo si può sempre trasformare in un circuito serie equivalente.



# Le reti elettriche in alternata (R-C parallelo)

Facciamo il grafico dei vettori calcolati nell'esercizio precedente.

1.  $V_G = 20 + j40$  V,  $I_R = 0,2 + j0,4$  A,  $I_C = -8 + j4$  A,  $I = -7,8 + j4,4$  A
2.  $R = 100$   $\Omega$ ,  $X_C = -j5$   $\Omega$ ,  $Z = 0,249 - j4,98$   $\Omega$



## Le reti elettriche in alternata (R-C parallelo)

Dal grafico precedente si ricavano tutti gli angoli

Angolo che si forma rispettivamente tra  $V_G$  ( $\circ I_R$ ),  $I_C$ ,  $I$ , e l'asse reale positivo **Re**:

$$\alpha = \arctg(4,4/-7,8) = \arctg(-0,564) = -29,42^\circ = \mathbf{150,57^\circ} \text{ (I e Re)}$$

$$\beta = \arctg(4/(-8)) = \arctg(-0,5) = -\mathbf{26,56^\circ} = \mathbf{153,43^\circ} \text{ (I}_C \text{ e Re)}$$

$$\delta = \arctg(40/20) = \arctg(2) = \mathbf{63,43} \text{ (V}_G \text{ e Re)}$$

L'angolo tra  $I_R$  ed asse reale positivo è uguale a quello di  $V_G$  poiché la resistenza non sfasa tensione e corrente.

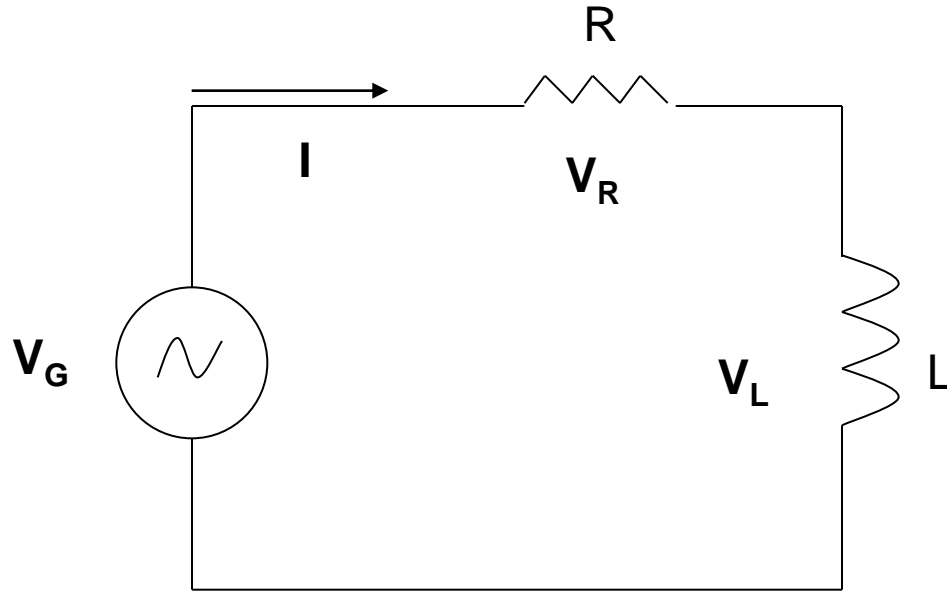
Da questi dati ricaviamo anche che tra corrente  $I_C$  e tensione  $V_G$  c'è un angolo di  $90^\circ$ : **angolo tra ( $I_C - V_G$ ) =  $\beta - \delta = 153,43 - 63,43 = 90^\circ$ .**

Troviamo conferma alla teoria.

L'angolo tra  $V_G$  ed  $I$  si calcola infine così:

$$\boldsymbol{\varphi} = \alpha - \delta = \mathbf{150,57 - 63,43 = 87,14}$$

# Le reti elettriche in alternata (R-L)

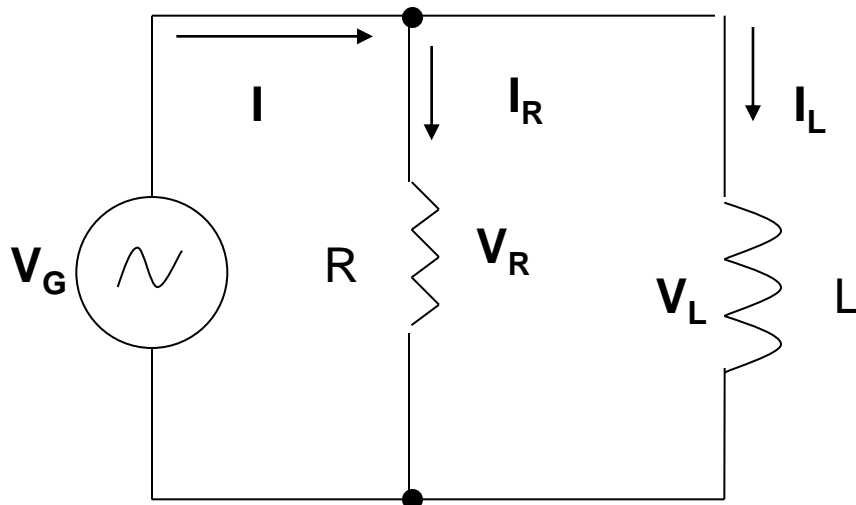


## Circuito R-L serie:

Questo circuito ha **una sola** corrente che percorre sia  $R$  che  $L$ .

Invece le tensioni sono **tre**  $V_G$ ,  $V_R$ ,  $V_L$ .

Ricordiamo che la tensione ( $V$ ) è una energia ( $J$ ) per unità di carica ( $L$ ).

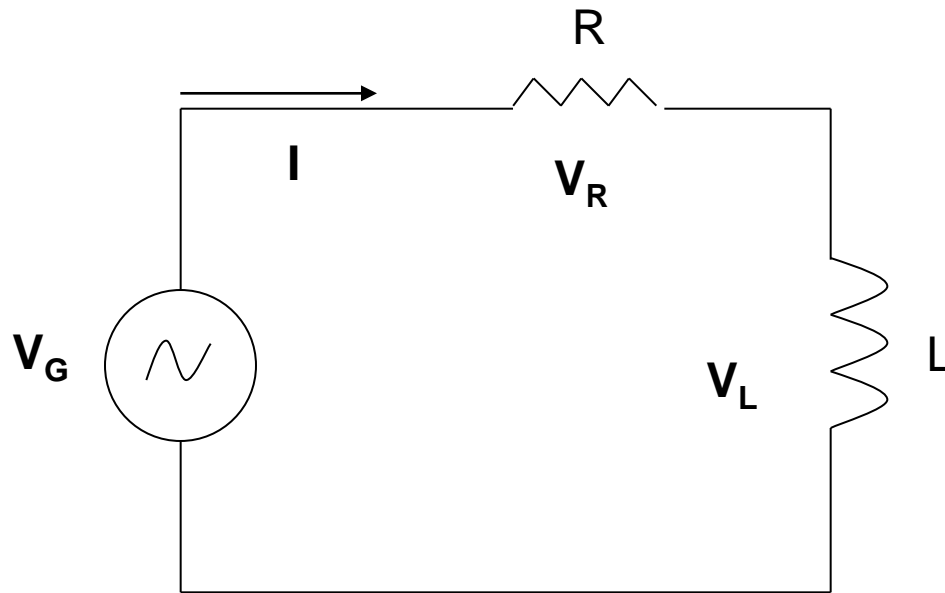


## Circuito R-L parallelo:

Questo circuito ha **una sola** tensione che si localizza ai capi di  $V_G$  di  $R$  e di  $L$ .

Invece le correnti sono **tre**  $I$ ,  $I_R$ ,  $I_L$ .

## Le reti elettriche in alternata (R-L serie)



Questo circuito si studia applicando la legge di Kirchoff alle tensioni.

Questa legge stabilisce una relazione energetica tra i componenti presenti nella maglia: la tensione che istante per istante fornisce il generatore si deve distribuire tra la resistenza e il condensatore.

Quindi scriviamo la relazione vettoriale appena enunciata.

$$\vec{V}_G = \vec{V}_R + \vec{V}_L$$

## Le reti elettriche in alternata (R-L serie)

Adesso teniamo conto della legge di OHM per i due componenti R e L, inserendola nella legge di Kirchoff

$$\vec{V}_G = \vec{V}_R + \vec{V}_L = R \cdot \vec{I} + \overline{X}_L \cdot \vec{I} = \vec{I} \cdot (R + \overline{X}_L)$$

la quantità tra parentesi tonda è chiamata

IMPEDENZA  $\vec{Z}$  ( $\Omega$ ):  $\vec{Z} = R + \overline{X}_L$

L'inverso dell'impedenza Z prende nome **AMMETTENZA Y**

$$Y = \frac{1}{Z}$$

## Le reti elettriche in alternata (R-L serie)

$$\vec{V}_G = \vec{I} \cdot (R + X_L) = \vec{Z} \cdot \vec{I}$$

$$\vec{V}_G = \vec{Z} \cdot \vec{I}$$

Esempio:

$$R = 10 \Omega, X_L = j 2 \Omega, I = 2+j3 \text{ A}$$

Calcolare  $V_G$ ,  $V_R$ ,  $V_L$ .

$$Z = 10 + j2 \Omega$$

$$V_G = Z I = (10+j2)(2+j3) = 20+j30+j4-6$$

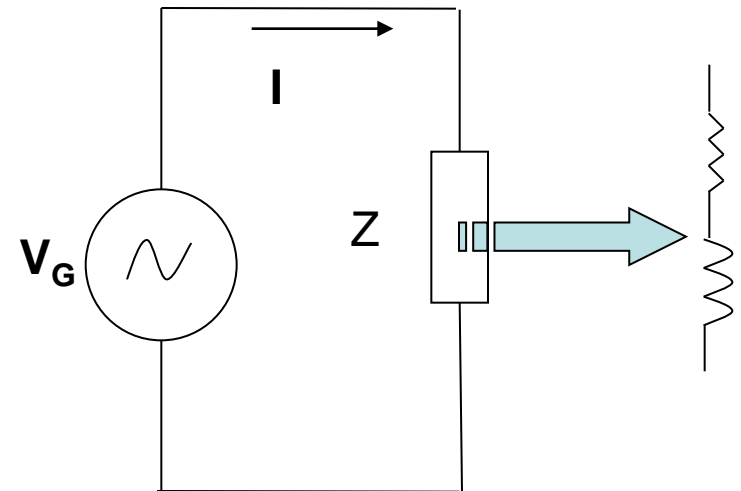
$$V_G = 14+j34 \text{ V}$$

$$V_R = R I = 10(2+j3) = 20+j30 \text{ V}$$

$$V_L = X_L I = (j2)(2+j3) = j4-6 = -6+j4 \text{ V}$$

L'ultima formula ci suggerisce un modo per interpretare il circuito:

Esso si comporta come un unico componente, chiamato **impedenza Z** al cui interno sono conglobati sia R che C, al quale si può applicare la legge di OHM.



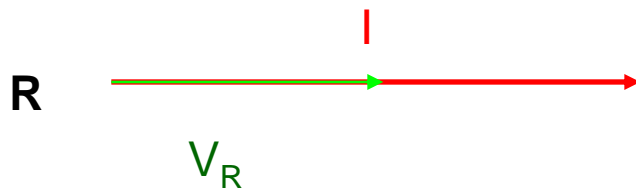
## Le reti elettriche in alternata (R-L serie)

L'esempio appena svolto ci suggerisce una interpretazione grafica molto interessante e molto **utilizzata**. Riscriviamo i risultati ottenuti:


1.  $V_G = 14 + j34$  V,  $V_R = 20 + j30$  V,  $V_L = -6 + j4$  V
2.  $R = 10$   $\Omega$ ,  $X_L = j 2$   $\Omega$ ,  $Z = 10 + j2$   $\Omega$
3.  $I = 2 + j3$  A

Trattiamo il punto 1).

Conosciamo il diagramma vettoriale tra tensione e corrente sia per le resistenze che per i condensatori, adesso utilizziamoli e verifichiamo che l'esempio sia coerente con la teoria.



Sulla resistenza tensione e corrente sono in fase



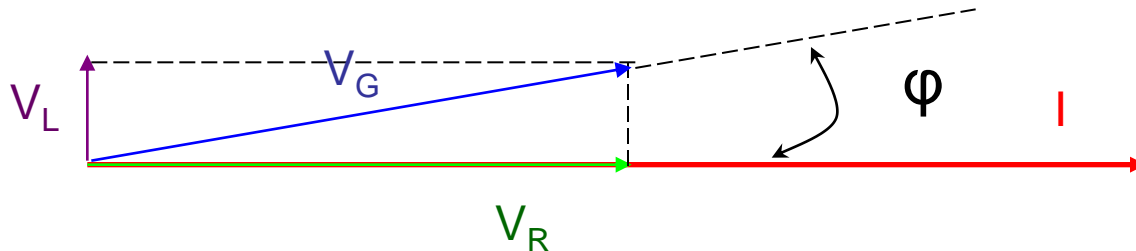
Sull'induttanza la tensione è in anticipo sulla corrente di  $90^\circ$

NOTA: I VETTORI  $V_R$  E  $V_L$  SONO DISEGNATI IN PROPORZIONE **CORRETTA**

## Le reti elettriche in alternata (R-L serie)

I due diagrammi vettoriali di solito si disegnano in un unico grafico per determinare anche la tensione  $V_G$  e l'angolo di fase tra questa tensione e la corrente  $I$  che circola nel circuito.

Il diagramma si costruisce disegnando per **prima** il vettore **corrente I**, poiché è lo stesso per tutti componenti, che sono in serie. Esso può essere disegnato in una posizione qualsiasi, normalmente orizzontale. Poi rispetto ad esso si disegnano gli altri vettori di tensione.

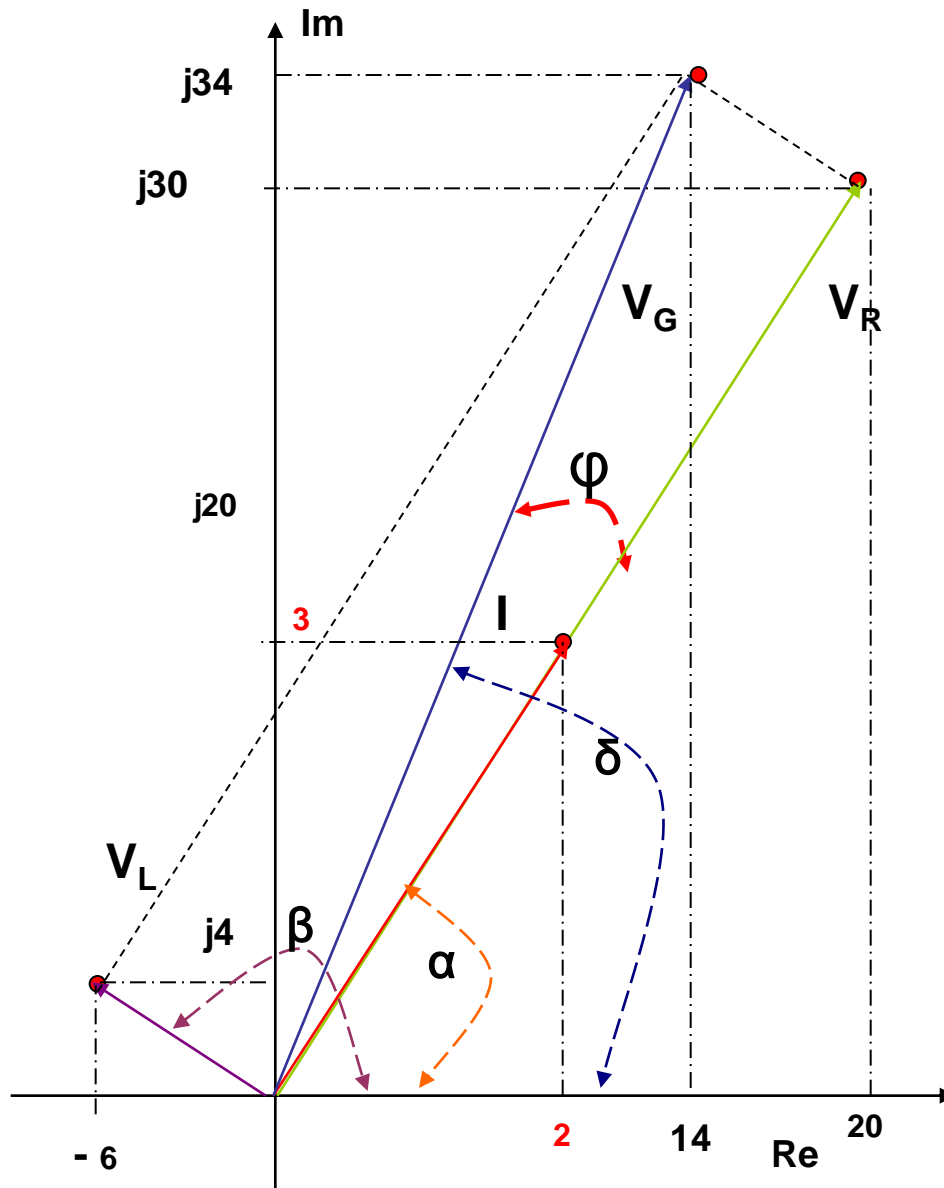


Come si calcolano la tensione  $V_G$  e l'angolo  $\varphi$  ?

Disegniamo sul piano di Gauss le tre tensioni e la corrente e successivamente paragoniamo il grafico ottenuto con quello disegnato in questa pagina.



## Le reti elettriche in alternata (R-L serie)



$$\begin{aligned}V_G &= 14 + j34 \text{ V} \\V_R &= 20 + j30 \text{ V} \\V_L &= -6 + j4 \text{ V} \\I &= 2 + j3 \text{ A}\end{aligned}$$

$$\longleftrightarrow$$

5 V

$$\longleftrightarrow$$

1 A

## Le reti elettriche in alternata (R-L serie)

Dal grafico precedente si ricava già visivamente che l'angolo tra  $I$  e  $V_L$  è di  $90^\circ$ . Tuttavia ora possiamo calcolarlo anche analiticamente.

Riportiamo ancora una volta i risultati dell'esercizio:

$$\mathbf{V_G = 14 + j34 \text{ V}}$$

$$\mathbf{V_R = 20 + j30 \text{ V}}$$

$$\mathbf{V_L = -6 + j4 \text{ V}}$$

$$\mathbf{I = 2 + j3 \text{ A}}$$

Angolo che si forma rispettivamente tra  $V_R$  (o  $I$ ),  $V_L$ ,  $V_G$  e l'asse reale positivo  $Re$ :

$$\alpha = \arctg(30/20) = \arctg(1,5) = \mathbf{56,3^\circ} \quad (\mathbf{V_R \text{ e } Re})$$

$$\beta = \arctg(-4/6) = \arctg(-0,667) = -\mathbf{33,7^\circ} == -\mathbf{33,7^\circ + 180^\circ} = \mathbf{146,3^\circ} \quad (\mathbf{V_L \text{ e } Re})$$

$$\delta = \arctg(34/14) = \arctg(2,428) = \mathbf{67,6^\circ} \quad (\mathbf{V_G \text{ e } Re})$$

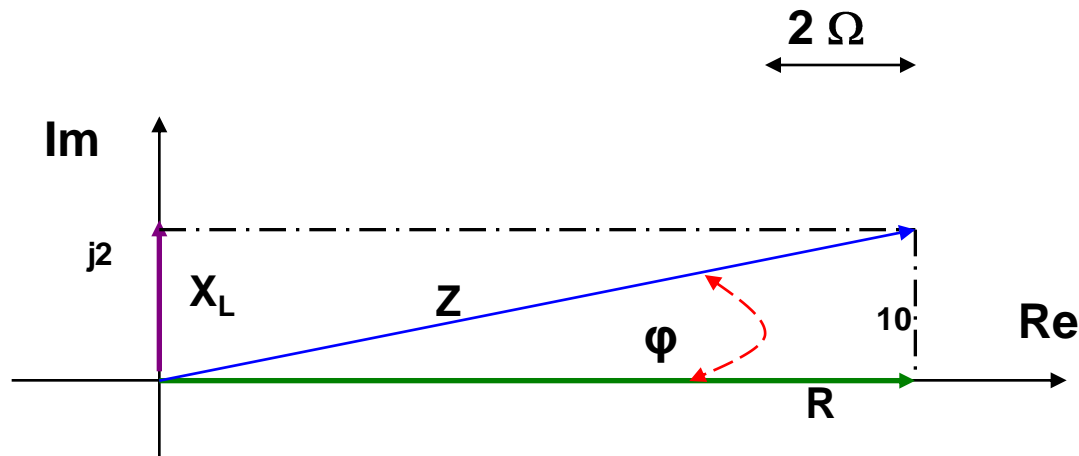
Se sottraiamo  $\beta$  e  $\alpha$  (in modulo) otteniamo  $90^\circ$ , mentre l'angolo tra  $V_G$  e  $I$  è

$$\varphi = \alpha - \delta = 67,6^\circ - 56,3^\circ = \mathbf{11,3^\circ} \quad (\mathbf{angolo \text{ importante!!}})$$

## Le reti elettriche in alternata (R-L serie)

Trattiamo adesso il punto 2) della diapositiva n° 23

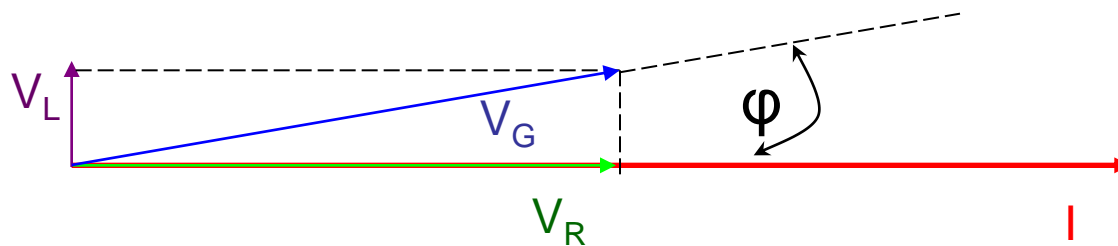
$$R = 10 \Omega, \quad X_L = j2 \Omega, \quad Z = 10 + j2 \Omega$$



Da questo grafico si nota subito che anche  $R$ ,  $X_L$ , e  $Z$  formano un diagramma vettoriale con vettori proporzionali alle rispettive tensioni e con le stesse relazioni di fase. Quindi il valore di  $\varphi$  anche in questo caso deve valere  $11,3$ .

Infatti:

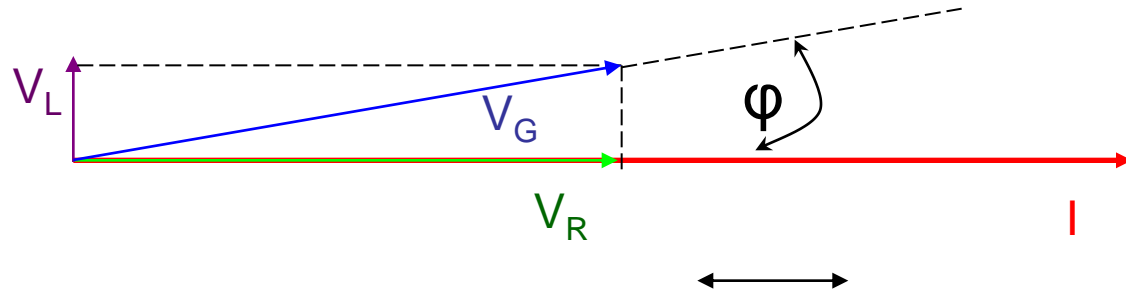
$$\varphi = \arctg(2/10) = +11,3$$



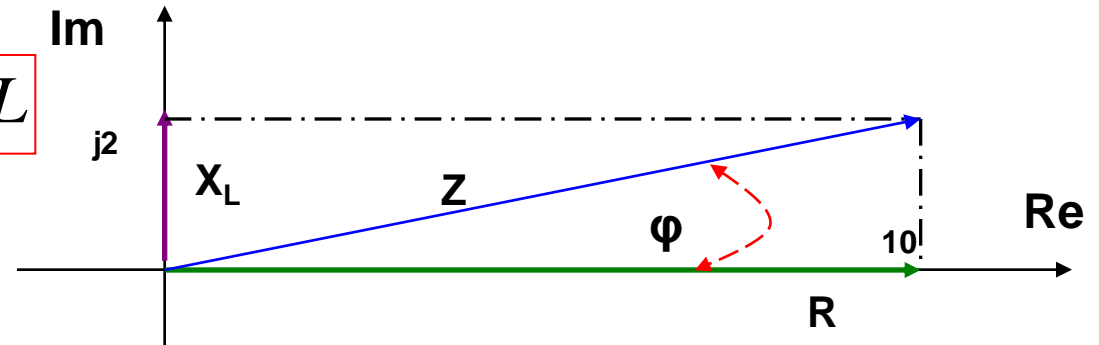
# Le reti elettriche in alternata (R-L serie)

## Riepilogo

$$\vec{V}_G = \vec{I} \cdot (R + \vec{X}_L) = \vec{Z} \cdot \vec{I}$$
$$\vec{V}_G = \vec{Z} \cdot \vec{I}$$



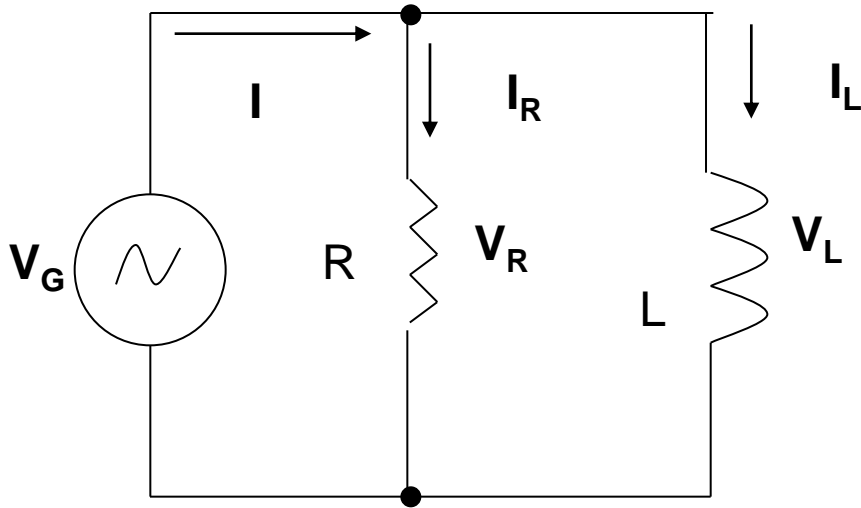
$$\vec{X}_L = j \cdot \omega \cdot L = j \cdot 2 \cdot \pi \cdot f \cdot L$$



Dalla formula della reattanza induttiva  $X_L$  si deduce una importante proprietà dei solenoidi: **all'aumento** della frequenza " f " la reattanza  $X_L$  **aumento**.

Ad una frequenza **zero** la reattanza è **zero** e quindi essa è un **corto circuito** mentre ad una frequenza teoricamente **infinita** la reattanza diventa **infinita** , cioè il solenoide si comporta come un **circuito aperto**. Tale risultato è molto importante in elettronica.

## Le reti elettriche in alternata (R-L parallelo)



Questo circuito si studia applicando la legge di Kirchoff alle correnti.

Questa legge stabilisce una relazione di conservazione della carica tra i componenti in parallelo: la corrente che istante per istante fornisce il generatore si deve dividere tra la resistenza e il condensatore.

Quindi scriviamo la relazione vettoriale appena enunciata.

$$\vec{I} = \vec{I}_R + \vec{I}_L$$

## Le reti elettriche in alternata (R-L parallelo)

Adesso teniamo conto della legge di OHM per i due componenti R e L, inserendola nella legge di Kirchoff

$$\vec{I} = \vec{I}_R + \vec{I}_L$$

$$\vec{I} = \frac{\vec{V}_R}{R} + \frac{\vec{V}_L}{X_L}$$

siccome le tensioni sono uguali (parallelo) possiamo scrivere

$$\vec{V}_R = \vec{V}_L = \vec{V}_G$$

$$\vec{I} = \frac{\vec{V}_G}{R} + \frac{\vec{V}_G}{X_L} = \vec{V}_G \cdot \left( \frac{1}{R} + \frac{1}{X_L} \right) = \vec{V}_G \cdot \left( \frac{\vec{X}_L + R}{R \cdot X_L} \right)$$

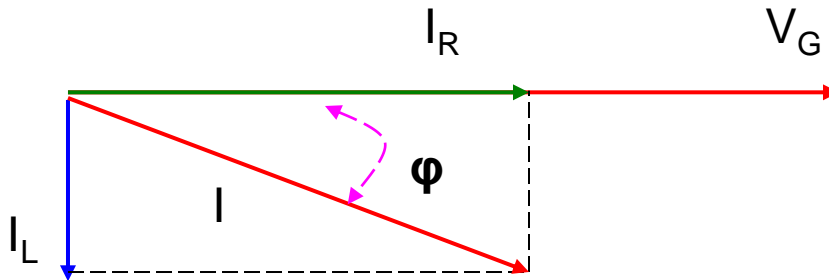
$$\vec{V}_G = \vec{I} \cdot \left( \frac{R \cdot \vec{X}_L}{X_L + R} \right)$$

$$Z = \frac{R \cdot \vec{X}_L}{X_L + R}$$

$$Y = \frac{1}{Z}$$

## Le reti elettriche in alternata (R-L parallelo)

Il diagramma si costruisce disegnando per **prima** il vettore **tensione**  $V_G$ , poiché è la stessa per tutti componenti, che sono in parallelo. Esso può essere disegnato in una posizione qualsiasi, normalmente orizzontale. Poi rispetto ad esso si disegnano gli altri vettori di corrente.



Le reti elettriche in alternata  
(R-L parallelo)

Facciamo un esercizio su questo diagramma supponendo di avere i seguenti valori:

$$R = 100 \Omega, \quad X_L = +j5 \Omega, \quad V_G = 20+j40 \text{ V}$$

Calcolare  $I$ ,  $I_R$ ,  $I_L$ .

$$I_R = \frac{V_G}{R} = \frac{20 + j40}{100} = \frac{20}{100} + j \frac{40}{100} = 0,2 + j0,4 \text{ A}$$

$$I_L = \frac{V_G}{X_L} = \frac{20 + j40}{+j5} = \frac{20}{+j5} + \frac{j40}{+j5} = \frac{4}{j} + 8 = -j4 + 8 = +8 - j4 \text{ A}$$

Il calcolo di  $I$  si può ottenere in due modi equivalenti: 1) applicando il principio di Kirchoff alle correnti; 2) calcolando l'impedenza  $Z$  e usando la legge di Ohm per tutto il circuito.

$$I = I_R + I_L = 0,2 + j0,4 + 8 - j4 = 8,2 - j3,6 \text{ A}$$



## Le reti elettriche in alternata (R-L parallelo)

Calcoliamo l'impedenza Z del circuito:  $R = 100 \Omega$ ,  $X_L = +j5 \Omega$ ,  $V_G = 20+j40 \text{ V}$

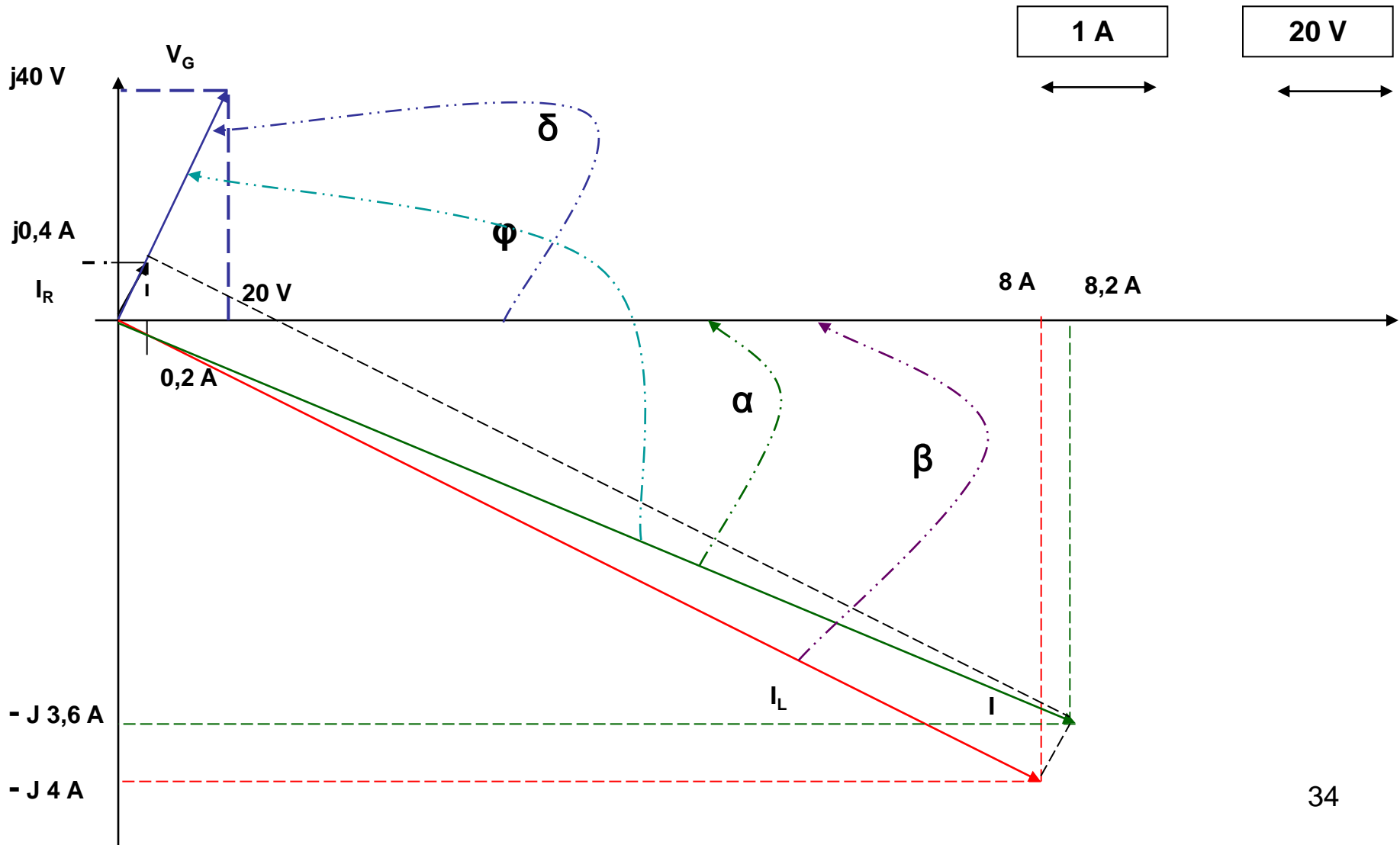
$$Z = \frac{R \cdot X_L}{R + X_L} = \frac{100 \cdot (+j5)}{100 + (+j5)} = \frac{j500}{100 + j5} = \frac{j500}{100 + j5} \cdot \frac{100 - j5}{100 - j5} = \frac{j500 \cdot (100 - j5)}{100^2 + 5^2}$$
$$Z = \frac{j50000 + 2500}{10000 + 25} = \frac{2500 + j50000}{10025} = \frac{2500}{10025} + j \frac{50000}{10025} = 0,249 + j4,98 \Omega$$

Questo risultato ci mostra come il circuito **parallelo** equivalga ad un circuito **serie** che come resistenza un valore  $0,249 \Omega$  ed un solenoide di reattanza  $+j4,98 \Omega$ .

Questo risultato si può dimostrare che è sempre vero: un circuito parallelo si può sempre trasformare in un circuito serie equivalente.

# Le reti elettriche in alternata (R-L parallelo-- grafico)

1.  $V_G = 20 + j40$  V,  $I_R = 0,2 + j0,4$  A,  $I_L = 8 - j4$  A,  $I = 8,2 - j3,6$  A
2.  $R = 100$   $\Omega$ ,  $X_L = +j5$   $\Omega$ ,  $Z = 0,249 + j4,98$   $\Omega$



## Le reti elettriche in alternata (R-L parallelo)

Dal grafico precedente si ricavano tutti gli angoli

Angolo che si forma rispettivamente tra  $V_G$  ( $\circ I_R$ ),  $I_L$ ,  $I$  e l'asse reale positivo  $Re$ :

$$\alpha = \arctg(-3,6/8,2) = \arctg(-0,439) = -23,7^\circ \quad (I \text{ e } Re)$$

$$\beta = \arctg(-4/8) = \arctg(-0,5) = -26,56^\circ \quad (I_L \text{ e } Re)$$

$$\delta = \arctg(40/20) = \arctg(2) = 63,43^\circ \quad (V_G \text{ e } Re)$$

L'angolo tra  $I_R$  ed asse reale positivo è uguale a quello di  $V_G$  poiché la resistenza non sfasa tensione e corrente.

Da questi dati ricaviamo anche che tra corrente  $I_L$  e tensione  $V_G$  c'è un angolo di  $90^\circ$ :  
**angolo tra ( $I_L - V_G$ ) =  $\beta + \delta = 26,56^\circ + 63,43^\circ = 90^\circ$ .**

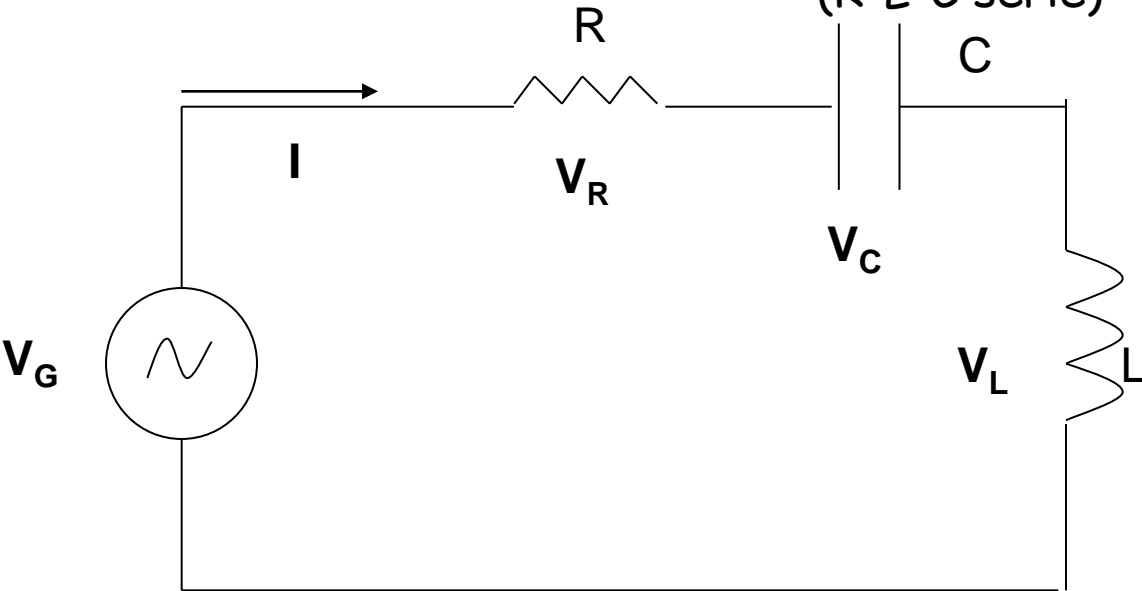
Troviamo conferma alla teoria.

L'angolo tra  $V_G$  ed  $I$  si calcola infine così:

$$\varphi = \alpha - \delta = 23,7 + 63,43 = 87,14$$

## Le reti elettriche in alternata

(R-L-C serie)



In questo circuito abbiamo componenti in serie per cui la corrente è unica  $I$ , ed abbiamo tre tensioni tra le quali scriviamo subito l'equazione di Kirchoff.

$$\vec{V}_G = \vec{V}_R + \vec{V}_C + \vec{V}_L$$

$$\vec{V}_G = \vec{V}_R + \vec{V}_C + \vec{V}_L$$

$$\vec{V}_G = \left( R + \vec{X}_C + \vec{X}_L \right) \vec{I}$$

$$\vec{Z} = \frac{\vec{V}_G}{\vec{I}} = R + \vec{X}_C + \vec{X}_L$$

$$\vec{Z} = R + j \cdot \left( X_L - X_C \right)$$

Da questa equazione ricaviamo quella dell'impedenza  $Z$  del circuito.

## Le reti elettriche in alternata (R-L-C serie)

$$\vec{Z} = R + j \cdot (X_L - X_C)$$

Dall'ultima relazione si ricava il comportamento del circuito, che può essere classificato in tre modi diversi a seconda dei valori assunti dalle due reattanze:

1. Se  $X_L > X_C$  il circuito si comporta come un R - L (poiché  $X_L - X_C > 0$ );
2. Se  $X_L < X_C$  il circuito si comporta come un R - C (poiché  $X_L - X_C < 0$ );
3. Se  $X_L = X_C$  il circuito si comporta come un circuito puramente ohmico e presenta un fenomeno fisico particolare che si chiama "risonanza". (poiché  $X_L - X_C = 0$ );

Caso n° 1:  $X_L > X_C$

Sviluppiamo la formula dell'impedenza Z.

$$\vec{Z} = R + j \cdot \left( \omega \cdot L - \frac{1}{\omega \cdot C} \right)$$

$$\omega \cdot L > \frac{1}{\omega \cdot C}$$

$$\omega^2 > \frac{1}{L \cdot C}; \quad \omega > \frac{1}{\sqrt{L \cdot C}}$$

La differenza delle due reattanze è positiva, come nei circuiti R-L serie.

Il circuito si comporta in tutto come già studiato, con la parte immaginaria positiva e reattanza pari a  $X_L - X_C$

## Le reti elettriche in alternata (R-L-C serie)

Caso n° 2:  $X_L < X_C$

$$\vec{Z} = R + j \cdot \left( \omega \cdot L - \frac{1}{\omega \cdot C} \right)$$

$$\omega \cdot L < \frac{1}{\omega \cdot C}$$

$$\omega^2 < \frac{1}{L \cdot C}; \quad \omega < \frac{1}{\sqrt{L \cdot C}}$$

La differenza delle due reattanze è negativa, come nei circuiti R- C serie.

Il circuito si comporta in tutto come già studiato, con la parte immaginaria negativa e reattanza pari a  $X_L - X_C$

Caso n° 3:  $X_L = X_C$

$$\vec{Z} = R + j \cdot \left( \omega \cdot L - \frac{1}{\omega \cdot C} \right)$$

$$\omega \cdot L = \frac{1}{\omega \cdot C}$$

$$\omega^2 = \frac{1}{L \cdot C}; \quad \omega = \frac{1}{\sqrt{L \cdot C}}$$

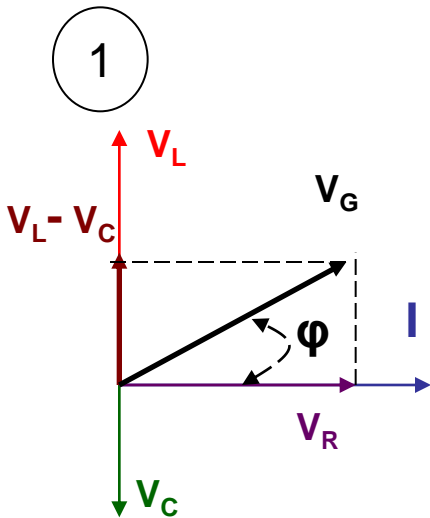
La differenza delle due reattanze è zero, come nei circuiti puramente ohmici.

Il circuito si comporta in tutto come già studiato, con la parte immaginaria zero e quindi reattanza pari a zero.

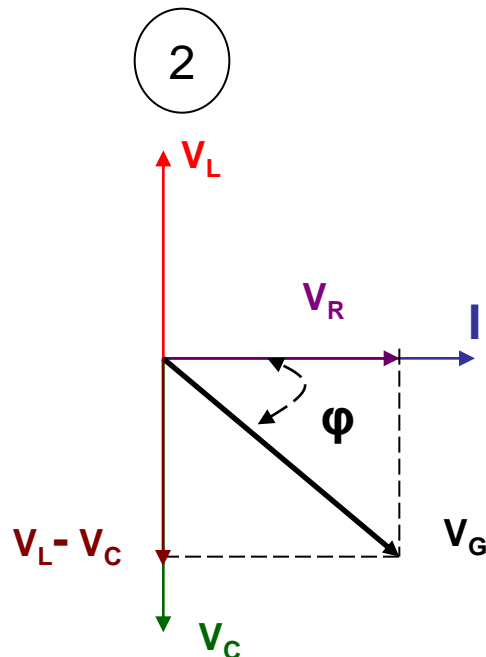
# Le reti elettriche in alternata (R-L-C serie)

Dopo lo studio matematico facciamo i grafici vettoriali molto usati in seguito.

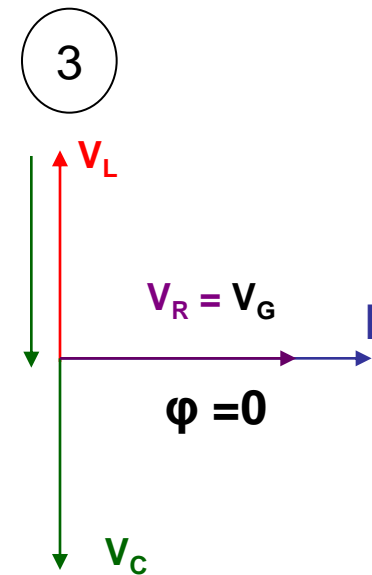
1.  $X_L > X_C$  R - L; quindi  $\Rightarrow (\mathbf{V}_L = X_L \cdot \mathbf{I}) > (\mathbf{V}_C = X_C \cdot \mathbf{I})$
2.  $X_L < X_C$  R - C; quindi  $\Rightarrow (\mathbf{V}_L = X_L \cdot \mathbf{I}) < (\mathbf{V}_C = X_C \cdot \mathbf{I})$
3.  $X_L = X_C$  circuito puramente ohmico; quindi  $\Rightarrow (\mathbf{V}_L = X_L \cdot \mathbf{I}) = (\mathbf{V}_C = X_C \cdot \mathbf{I})$



Equivale ad un R-L



Equivale ad un R-C



Equivale ad un circuito resistivo

## Le reti elettriche in alternata (R-L-C serie)

Consideriamo le tre relazioni trovate per realizzare un grafico. Su di esso disegneremo le reattanze induttive  $X_L$  e capacitive  $X_C$  al variare della pulsazione  $\omega$  o della **frequenza "f"**. Ricordiamo che  $\omega = 2\pi f$ .

Di seguito riportiamo le formule delle due reattanze.

$$X_L = \omega \cdot L = 2 \cdot \pi \cdot f \cdot L$$
$$X_C = \frac{1}{\omega \cdot C} = \frac{1}{2 \cdot \pi \cdot f \cdot C}$$

Dal punto di vista geometrico  $X_L$  è una retta che passa per l'origine (non ha termine noto), mentre  $X_C$  è una iperbole equilatera. Si può interpretare fisicamente le due affermazioni dicendo che il solenoide ha una reattanza  $X_L$  che aumenta linearmente con la frequenza (infatti sono direttamente proporzionali), mentre il condensatore diminuisce la sua reattanza all'aumentare della frequenza, ma non linearmente, bensì come una curva chiamata iperbole. Si può anche dire che la reattanza capacitiva  $X_C$  è inversamente proporzionale alla frequenza.

Riepilogando  $X_L$  è piccola a frequenza piccola ed aumenta con la frequenza,

Invece  $X_C$  è grande a frequenza piccola e diminuisce all'aumento della frequenza. 40



## Le reti elettriche in alternata (R-L-C serie)

Per disegnare il grafico supponiamo di scegliere due valori semplici per i calcoli:  $L = 0,01$  H e  $C=1$ F. Sulla base dei calcoli effettuati la frequenza alla quale le due reattanze sono uguali vale:

$$\omega = \frac{1}{\sqrt{L \cdot C}}$$

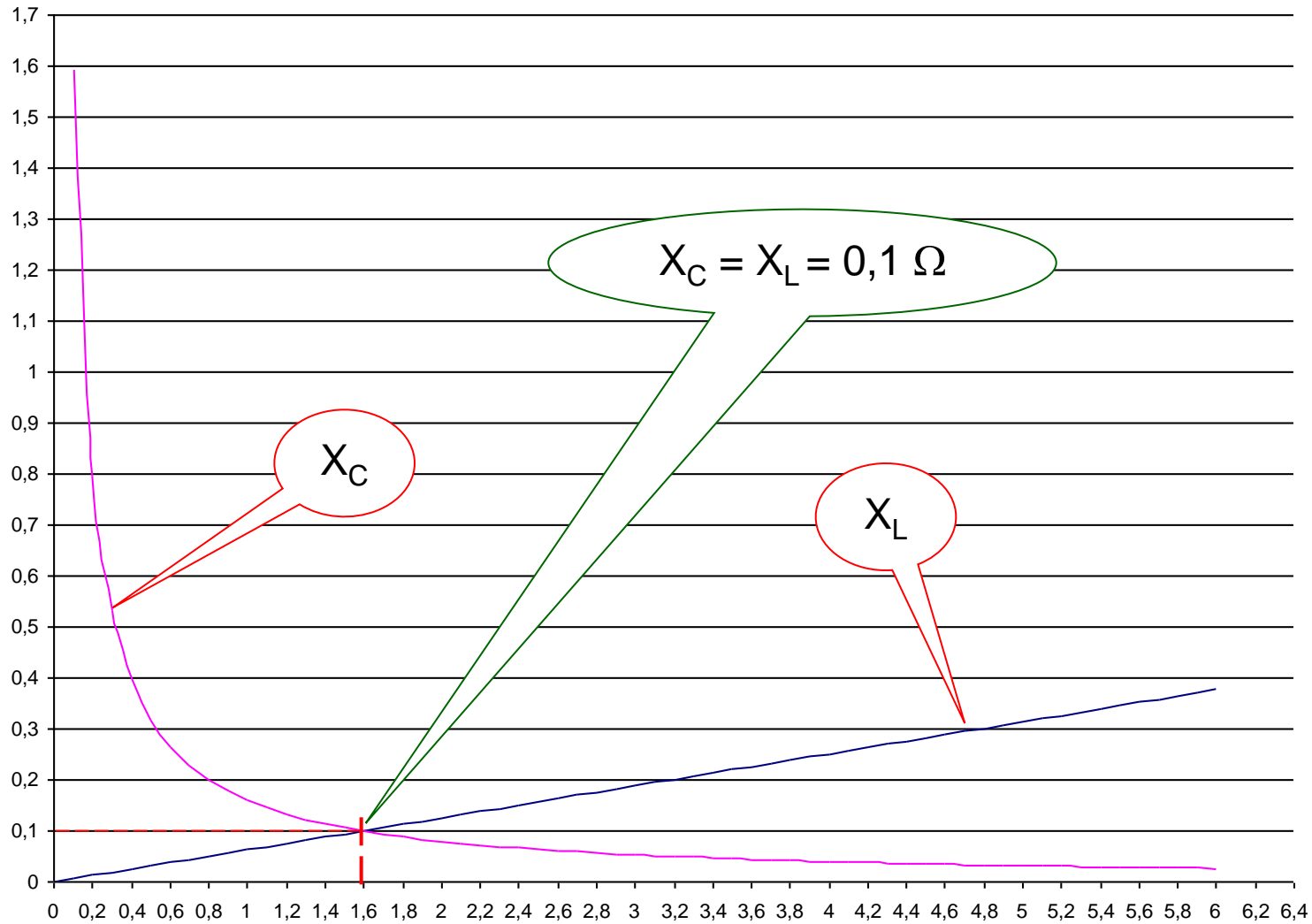
$$f = \frac{1}{2 \cdot \pi \cdot \sqrt{L \cdot C}} = \frac{1}{6,28 \cdot \sqrt{0,01 \cdot 1}} = \frac{1}{6,28 \cdot 0,1} = \frac{1}{0,628} = 1,59 \text{ Hz} \cong 1,6 \text{ Hz}$$

In corrispondenza a tale frequenza le reattanze sono uguali e valgono entrambe (conviene calcolare  $X_L$  perché è più facile!):

$$X_C = X_L = 2 \cdot \pi \cdot f \cdot L = 6,29 \cdot 1,6 \cdot 0,01 \cong 0,1 \text{ } \Omega$$

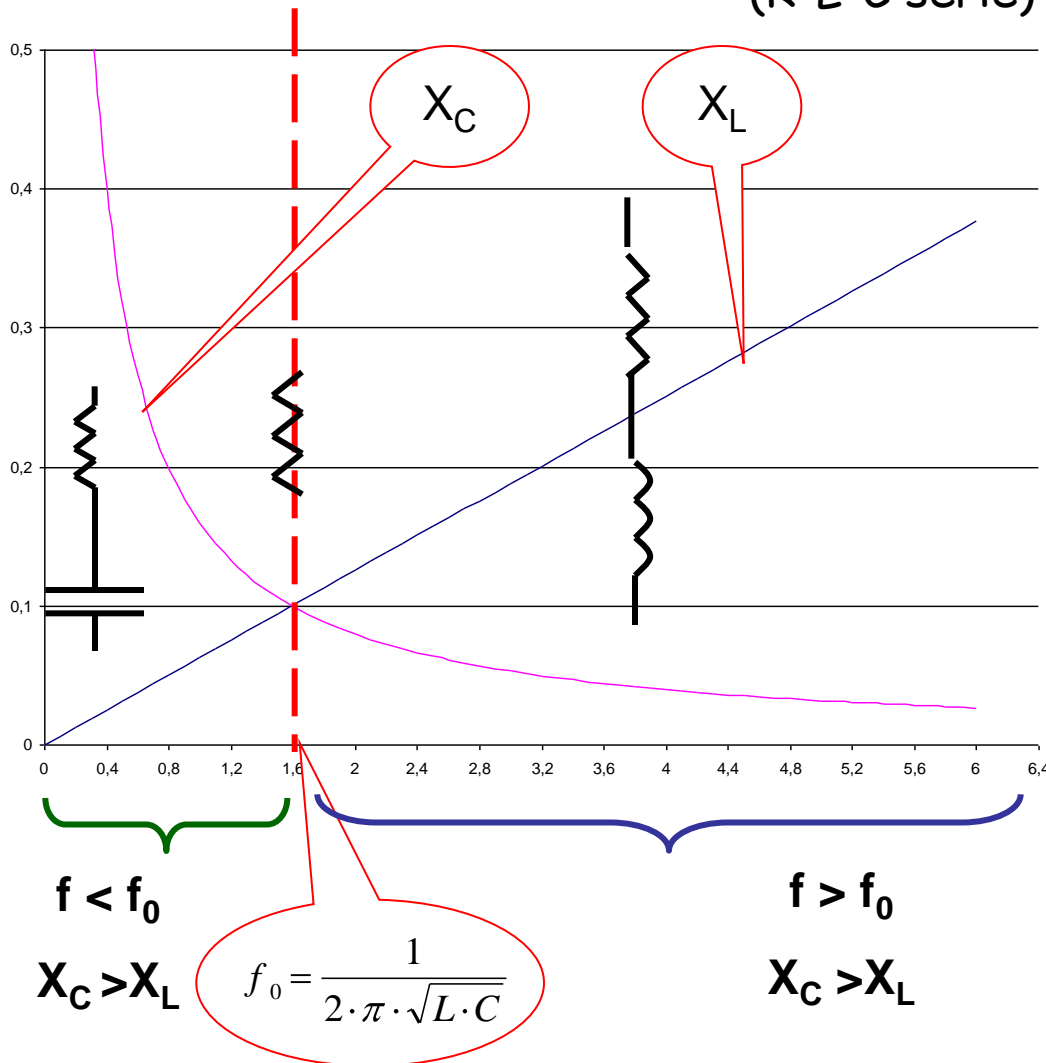
# Le reti elettriche in alternata (R-L-C serie)

$X_L$  e  $X_C$  ( $\Omega$ )



f (Hz)

# Le reti elettriche in alternata (R-L-C serie)



Nella figura a fianco sono sintetizzate tutte le conclusioni a cui siamo giunti. Si è evidenziato la frequenza di risonanza  $f_0$ , rispetto alla quale si può dividere il grafico in tre parti.

1. Quando la frequenza  $f$  è minore di  $f_0$  la reattanza  $X_C$  è maggiore di  $X_L$ , quindi la reattanza totale del circuito è negativa ed esso si comporta come un  $R_C$ .
2. Quando la frequenza  $f$  è maggiore di  $f_0$  la reattanza  $X_C$  è minore di  $X_L$ , quindi la reattanza totale del circuito è positiva ed esso si comporta come un RL.

3. Quando la frequenza è uguale ad  $f_0$ , le due reattanze sono uguali e di segno opposto, quindi si annullano. Il circuito è resistivo

# Le reti elettriche in alternata (R-L-C serie)

## Comportamento del circuito alla risonanza

Ricaviamo altri risultati interessanti per il circuito in esame quando esso si trova a funzionare alla frequenza  $f_0$ . Possiamo supporre di usare un generatore che fornisca una sinusoide proprio del valore  $f_0$ . Calcoliamo quanto valgono **l'impedenza, le tensioni, la corrente** in questa situazione.

$$\begin{aligned}\vec{V}_G &= \vec{V}_R + \vec{V}_C + \vec{V}_L \\ 1) \quad \vec{V}_G &= \mathbf{R} + \vec{X}_C + \vec{X}_L \cdot \vec{I} = R \cdot \vec{I} \\ \vec{Z} &= \frac{\vec{V}_G}{\vec{I}} = R\end{aligned}$$

Vediamo che  $Z = R$ . Poiché  $X_C = -X_L$ , quindi la loro somma è zero. Abbiamo una prima deduzione da fare: questo valore è il **minimo** possibile per  $Z$  (al variare della frequenza), quindi alla risonanza la **corrente** circolante nel circuito è **massima**.

$$\begin{aligned}\vec{V}_G &= \vec{V}_R + \vec{V}_C + \vec{V}_L \\ \vec{V}_R &= \vec{V}_G \cdot \frac{R}{Z} = \vec{V}_G \\ 2) \quad \vec{V}_C &= \vec{V}_G \cdot \frac{X_C}{Z} = \vec{V}_G \cdot \frac{X_C}{R} = -\vec{V}_G \cdot \frac{X}{R} \\ \vec{V}_L &= \vec{V}_G \cdot \frac{X_L}{Z} = \vec{V}_G \cdot \frac{X_L}{R} = \vec{V}_G \cdot \frac{X}{R}\end{aligned}$$

In questo secondo punto notiamo che tutta la tensione del generatore è applicata alla resistenza  $V_G = V_R$ . Tuttavia questo non significa che su L e C non vi sia tensione, ma che esse sono **uguali** e di **segno opposto** per cui si azzerano (come le reattanze)

## Le reti elettriche in alternata (R-L-C serie)-- Fattore di qualità Q

Si possono scrivere le formule delle tensioni su C ed L in modo da evidenziare un fenomeno presente in questi circuiti che potrebbe essere pericoloso.

$$Q = \frac{X}{R} \quad (\text{fattore di qualità, adimensionale})$$

$$\vec{V}_C = -\vec{V}_G \cdot \frac{X}{R} = -\vec{V}_G \cdot Q$$

$$\vec{V}_L = \vec{V}_G \cdot Q$$

**CONCLUSIONE:** se il circuito RLC serie presenta una resistenza R troppo piccola (minore comunque di X) su C e su L sono presenti SOVRATENSIONI. Per esempio se X è 100 volte più grande di R le due tensioni  $V_C$  e  $V_L$  sono 100 volte più grandi di  $V_G$  (PERICOLO).

Nella forma in cui sono scritte le tensioni  $V_C$  e  $V_L$  si capisce che esse sono “Q volte” più grandi di  $V_G$ .

1. Se Q è minore di 1 e le due tensioni risultano minori di  $V_G$ .
2. Se Q è maggiore di 1 le due tensioni sono maggiori di  $V_G$ .
3. Q è maggiore di 1 se X è maggiore di R.

## Le reti elettriche in alternata (R-L-C serie--risonanza)

Il fenomeno della risonanza ha una spiegazione energetica. I due componenti C ed L alla risonanza possiedono esattamente la stessa energia:

1. Condensatore (energia elettrica):  $\frac{1}{2} * C * V_C^2$
2. Solenoide (energia magnetica):  $\frac{1}{2} * L * I^2$

Siccome  $V_C = V_L = X * I$  si ha che:

$$\frac{1}{2} * C * V_C^2 = \frac{1}{2} * C * (X * I)^2 = \frac{1}{2} * C * X^2 * I^2 = \frac{1}{2} * C * [(\omega * L) * (1/\omega * C)] * I^2 = \frac{1}{2} * L * I^2$$

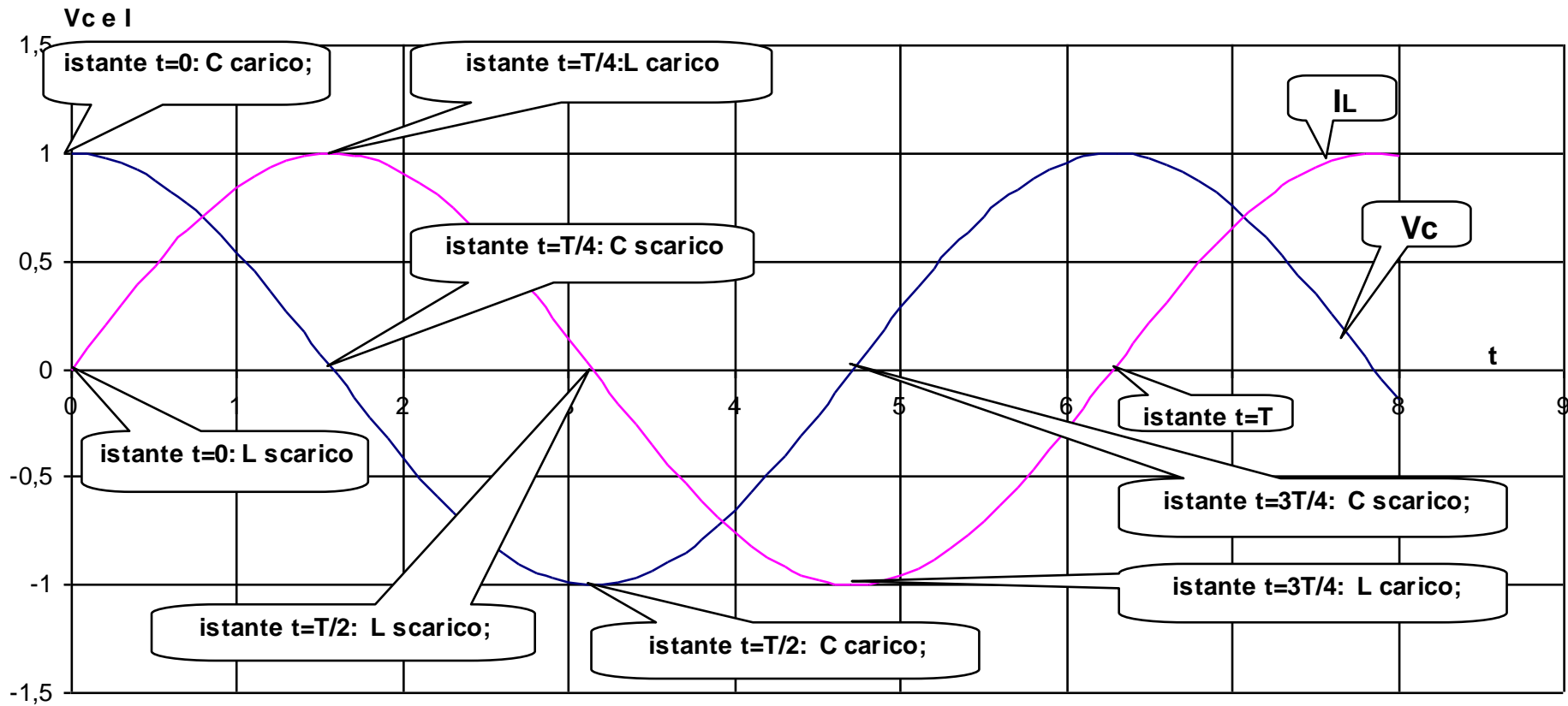
il condensatore, che si carica di energia elettrica, raggiunge il massimo quando il solenoide, che si carica di energia magnetica, è scarico. Successivamente le due energie si scambiano caricando il solenoide e scaricando il condensatore.

Siccome i due massimi di energia sono uguali sia C che L non guadagna o perde energia nello scambio con l'altro componente, quindi non hanno bisogno del generatore per "aggiustare" il valore che gli compete. Cioè essi sono come "staccati" dal generatore.

Il tempo di questi scambi energetici deve essere uguale al periodo corrispondente alla frequenza di risonanza. Cioè  $T_0 = 1/f_0$ . Solo in questo modo sia C che L non hanno bisogno di ulteriori energie dato che tra di loro sono perfettamente "sincronizzati" (risonanti).

In questa figura è sintetizzato lo sfasamento tra  $V_C$  ed  $I$

tensione su C e corrente in L



## Le reti elettriche in alternata (R-L-C serie)- 1° Esempio

$R = 10 \Omega$ ,  $C = 10 \text{ mF}$ ,  $L = 10 \mu\text{H}$ ,  $V_G = 220 \text{ V}$ . Calcolare la frequenza di risonanza  $f_0$  ed il fattore di qualità  $Q$ .

$$f_0 = \frac{1}{2 \cdot \pi \cdot \sqrt{L \cdot C}} = \frac{1}{6,28 \cdot \sqrt{10 \cdot 10^{-6} \cdot 10 \cdot 10^{-3}}} = \frac{1}{6,28 \cdot \sqrt{10^{-7}}}$$
$$f_0 = \frac{1}{6,28 \cdot \sqrt{10^{-1} \cdot 10^{-6}}} = \frac{1}{6,28 \cdot 10^{-3} \cdot \sqrt{10^{-1}}} = \frac{1000}{6,28 \cdot \sqrt{10^{-1}}}$$
$$f_0 = \frac{1000}{6,28 \cdot 0,316} = 503,5 \text{ Hz}$$

$$X = X_L = -X_C = 2 \cdot \pi \cdot f \cdot L = 6,28 \cdot 503,5 \cdot 10 \cdot 10^{-6} = 0,0316 \Omega$$

$$Q = \frac{X}{R} = \frac{0,0316}{10} = 0,00316$$

Il valore del fattore di qualità  $Q$  è molto piccolo (quasi zero), quindi possiamo dire che alla frequenza di risonanza  $V_L$  e  $V_C$  sono quasi zero.

$$V_L = V_C = Q \cdot V_G = 0,00316 \cdot 220 = 0,695 \text{ V}$$



## Le reti elettriche in alternata (R-L-C serie)- 2° Esempio

$R = 1 \Omega$ ,  $C = 100 \text{ nF}$ ,  $L = 1 \text{ mH}$ ,  $V_G = 220 \text{ V}$ . Calcolare la frequenza di risonanza  $f_0$  ed il fattore di qualità  $Q$ .

$$f_0 = \frac{1}{2 \cdot \pi \cdot \sqrt{L \cdot C}} = \frac{1}{6,28 \cdot \sqrt{1 \cdot 10^{-3} \cdot 100 \cdot 10^{-9}}} = \frac{1}{6,28 \cdot \sqrt{10^{-10}}}$$
$$f_0 = \frac{1}{6,28 \cdot 10^{-5}} = \frac{100000}{6,28} = 15923 \text{ Hz}$$

$$X = X_L = -X_C = 2 \cdot \pi \cdot f \cdot L = 6,28 \cdot 15923 \cdot 1 \cdot 10^{-3} \cong 100 \Omega$$

$$Q = \frac{X}{R} = \frac{100}{1} = 100$$

Il valore del fattore di qualità  $Q$  ora è molto grande (=100=, quindi possiamo dire che alla frequenza di risonanza  $V_L$  e  $V_C$  sono 100 volte  $V_G$ .

$$V_L = V_C = Q \cdot V_G = 100 \cdot 220 = 22.000 \text{ V !!!! (molto pericolosa)}$$

## Le reti elettriche in alternata (R-L-C serie)- 2° Esempio

L'espressione di Q ha una interpretazione fisica importante: essa è il rapporto dell'energia immagazzinata diviso per l'energia dissipata in un ciclo della sinusoide.

$$Q = \frac{X \cdot I^2}{R \cdot I^2} = \frac{\text{potenzain induttanza o condensatore}}{\text{potenzain resistore}}$$

Infine Q ha anche una espressione che deriva da quella generale.

$$Q = \frac{X}{R} = \frac{\omega_0 \cdot L}{R} = \frac{1}{\sqrt{L \cdot C}} \cdot L = \frac{1}{R} \cdot \sqrt{\frac{L^2}{L \cdot C}} = \frac{1}{R} \cdot \sqrt{\frac{L}{C}}$$

## Le reti elettriche in alternata (R-L-C serie)—grafico di Z ed I in frequenza

È molto utile disegnare un grafico della impedenza Z e/o della corrente I al variare della frequenza. Da questa curva si mette in evidenza quanto vale Z e/o I quando cambia la frequenza. Per questo dobbiamo ricavare una formula sia per Z che per I. Tuttavia le due grandezze sono legate dalla legge di Ohm  $V_G = Z \cdot I$ , quindi basta ricavare Z e poi è automatico ricavare anche I.

La dimostrazione successiva non è obbligatoria da conoscere ma occorre per disegnare le curve di cui sopra.

Tuttavia nella dimostrazione si è tenuto conto di alcune formule già studiate e sono state fatte delle semplificazioni.

$$Q = \frac{\omega_0 \cdot L}{R} \quad \text{quindi} \quad \omega_0 \cdot L = Q \cdot R$$

$$\omega = 2 \cdot \pi \cdot f$$

$$\omega_0 = \frac{1}{L \cdot C}$$

$$\vec{Z} = R + j \cdot \left( \omega L - \frac{1}{\omega C} \right) = R + j \cdot \left( \omega \cdot L - \frac{1}{\omega \cdot C} \right)$$

$$|\vec{Z}| = \sqrt{R^2 + \left( \omega L - \frac{1}{\omega C} \right)^2} = \sqrt{R^2 + \left[ \left( \omega L \right)^2 + \left( \frac{1}{\omega C} \right)^2 - 2 \cdot \omega L \cdot \left( \frac{1}{\omega C} \right) \right]}$$

$$|\vec{Z}| = \sqrt{R^2 + \left[ \omega^2 \cdot L^2 + \frac{1}{\omega^2 \cdot C^2} - 2 \cdot \frac{L}{C} \right]} = \sqrt{R^2 + \frac{1}{\omega^2 \cdot C^2} \cdot \left[ \omega^4 \cdot L^2 \cdot C^2 + 1 - 2 \cdot \frac{L}{C} \cdot \omega^2 \cdot C^2 \right]}$$

$$|\vec{Z}| = \sqrt{R^2 + \frac{1}{\omega^2 \cdot C^2} \cdot \left[ \omega^4 \cdot L^2 \cdot C^2 + 1 - 2 \cdot \omega^2 \cdot L \cdot C \right]} = \sqrt{R^2 + \frac{1}{\omega^2 \cdot C^2} \cdot \left[ \omega^4 \cdot \frac{1}{\omega_0^4} + 1 - 2 \cdot \omega^2 \cdot \frac{1}{\omega_0^2} \right]}$$

$$|\vec{Z}| = \sqrt{R^2 + \frac{1}{\omega^2 \cdot C^2} \cdot \frac{L^2}{L^2} \cdot \left[ \omega^4 \cdot \frac{1}{\omega_0^4} + 1 - 2 \cdot \omega^2 \cdot \frac{1}{\omega_0^2} \right]} = \sqrt{R^2 + \frac{1}{\omega^2 \cdot C^2} \cdot \frac{L^2}{L^2} \cdot \left[ \omega^4 \cdot \frac{1}{\omega_0^4} + 1 - 2 \cdot \omega^2 \cdot \frac{1}{\omega_0^2} \right]}$$

$$|\vec{Z}| = \sqrt{R^2 + \frac{L^2}{\omega^2 \cdot C^2 \cdot L^2} \cdot \left[ \frac{\omega^4}{\omega_0^4} + 1 - 2 \cdot \frac{\omega^2}{\omega_0^2} \right]} = \sqrt{R^2 + L^2 \cdot \frac{\omega_0^4}{\omega^2} \cdot \left[ \frac{\omega^4}{\omega_0^4} + 1 - 2 \cdot \frac{\omega^2}{\omega_0^2} \right]}$$

$$|\vec{Z}| = \sqrt{R^2 + L^2 \cdot \omega_0^2 \cdot \frac{\omega_0^2}{\omega^2} \cdot \left[ \frac{\omega^4}{\omega_0^4} + 1 - 2 \cdot \frac{\omega^2}{\omega_0^2} \right]} = \sqrt{R^2 + \left( \frac{L \cdot \omega_0}{\omega} \right)^2 \cdot \left[ \frac{\omega^4}{\omega_0^4} + 1 - 2 \cdot \frac{\omega^2}{\omega_0^2} \right]}$$

$$|\vec{Z}| = \sqrt{R^2 + Q^2 \cdot R^2 \cdot \frac{\omega_0^2}{\omega^2} \cdot \left[ \frac{\omega^4}{\omega_0^4} + 1 - 2 \cdot \frac{\omega^2}{\omega_0^2} \right]} = R \cdot \sqrt{1 + Q^2 \cdot \frac{\omega_0^2}{\omega^2} \cdot \left[ \frac{\omega^4}{\omega_0^4} + 1 - 2 \cdot \frac{\omega^2}{\omega_0^2} \right]}$$

$$\left| \vec{Z} \right|_N = \frac{|\vec{Z}|}{R} = \sqrt{1 + Q^2 \cdot \frac{\omega_0^2}{\omega^2} \cdot \left[ \frac{\omega^4}{\omega_0^4} + 1 - 2 \cdot \frac{\omega^2}{\omega_0^2} \right]} = \sqrt{1 + Q^2 \cdot \left[ \frac{\omega^2}{\omega_0^2} + \frac{\omega_0^2}{\omega^2} - 2 \right]}$$

$$\left| \vec{Z} \right|_N = \sqrt{Q^2 \cdot \left[ \frac{\omega^2}{\omega_0^2} + \frac{\omega_0^2}{\omega^2} - 2 \right]} + 1$$

$Z_N =$   
impedenza  
normalizzata

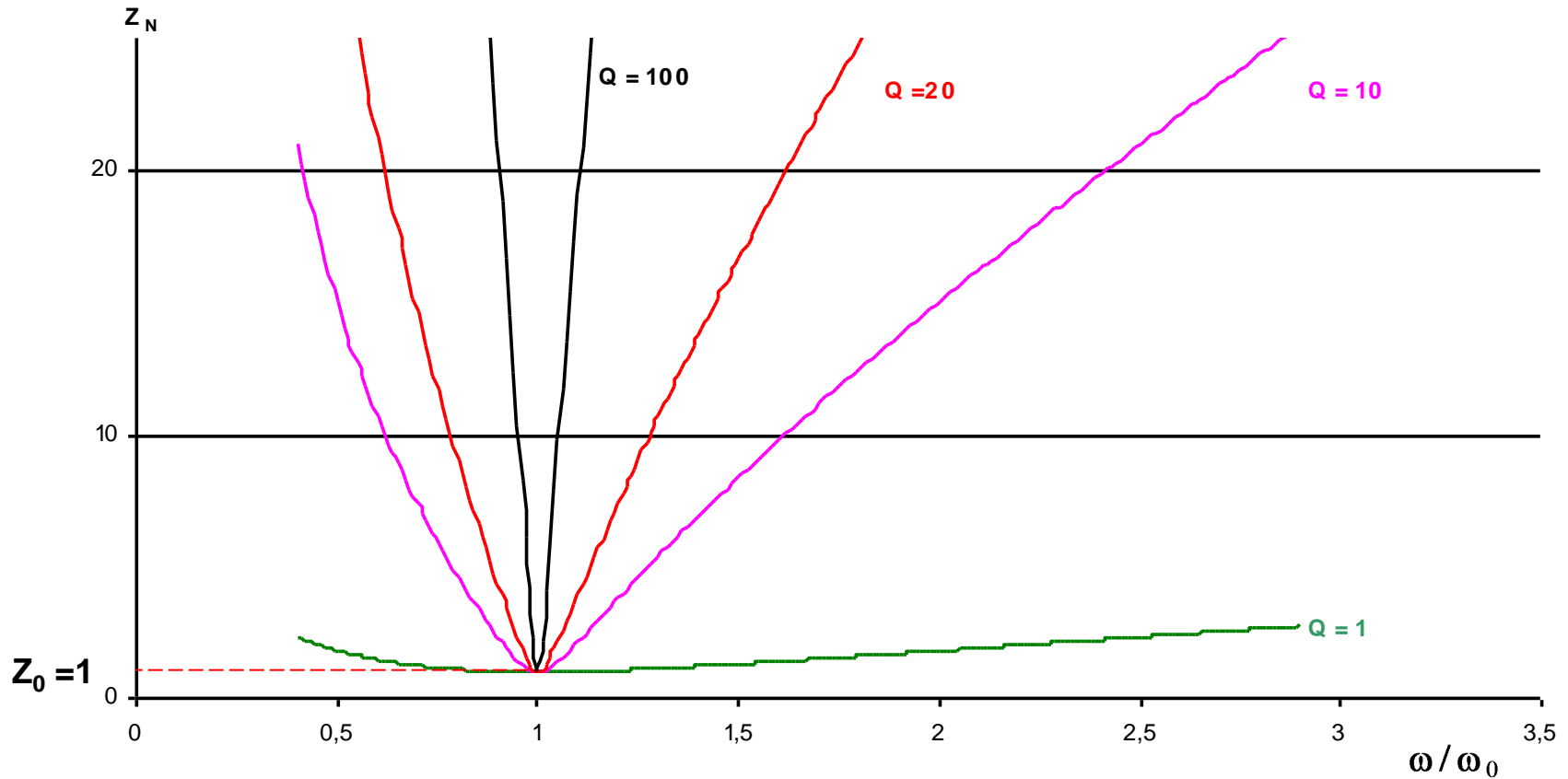
( per avere Z  
occorre  
moltiplicare  
per R la  $Z_N$ ):

$$Z = R \cdot Z_N$$

# Le reti elettriche in alternata (R-L-C serie)—grafico di $Z_N$ in frequenza

$$|\vec{Z}|_N = \sqrt{Q^2 \cdot \left[ \frac{\omega^2}{\omega_0^2} + \frac{\omega_0^2}{\omega^2} - 2 \right] + 1}$$

## Impedenza normalizzata $Z_N$

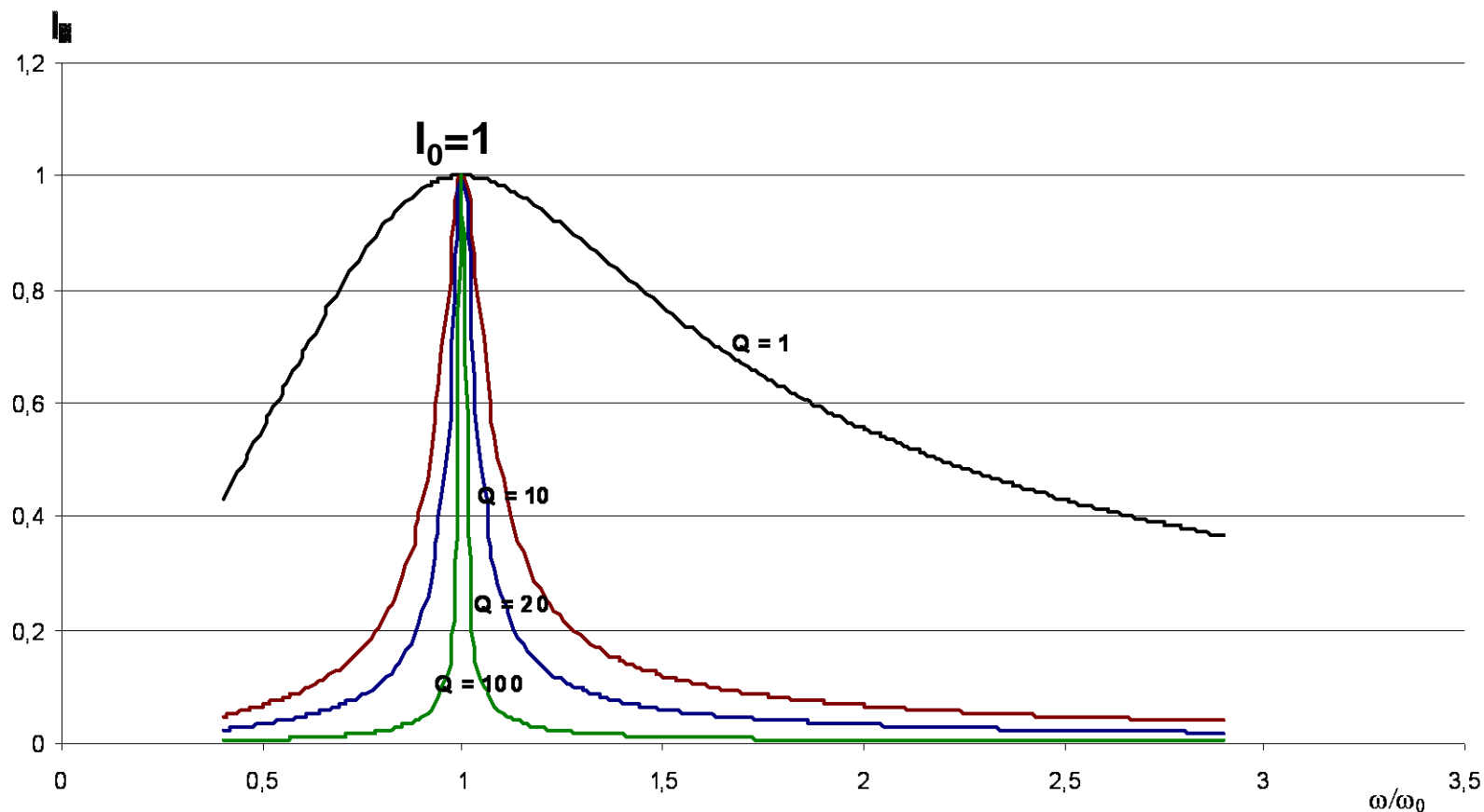


L'impedenza è minima  $Z_N = Z_0 = 1$  alla risonanza  $\omega/\omega_0 = 1$ , cioè  $\omega = \omega_0$ .

# Le reti elettriche in alternata (R-L-C serie)—grafico di $I_N$ in frequenza

$$I_N = 1/Z_N$$

## Corrente normalizzata $I_N$



La corrente è massima  $I_N = 1$  alla risonanza  $\omega/\omega_0 = 1$ , cioè  $\omega = \omega_0$ .

## Le reti elettriche in alternata (R-L-C serie) – grafico di $Z_N$ e $I_N$ in frequenza

Un importante commento alle due curve dell'impedenza e della corrente riguarda la loro forma all'aumentare del Q. Si nota che la curva diventa sempre più stretta e i suoi fianchi molto più ripidi. Per questa proprietà il circuito è utilizzato come “**filtro passa banda**”. Il significato di questa frase è abbastanza chiaro: se la curva è molto stretta la corrente che viene fatta passare meglio è quella che ha una frequenza pari a quella di risonanza  $f_0$  (o pulsazione  $\omega_0$ ), mentre le correnti con frequenza diverse sono “attenuate” come risulta dai valori sull'ordinata. Infatti se  $Q=100$  anche frequenze poco diverse da quella di risonanza “attenuano” moltissimo la corrente. Per l'impedenza il discorso vale al contrario: minima impedenza alla risonanza (la corrente passa bene!!), con frequenze diverse essa aumenta (la corrente ha più difficoltà a passare!!).

Queste osservazioni fisiche diventano più precise scrivendole in formule.

Dobbiamo cioè trovare una formula che ci calcoli “**quante frequenze**” *passano bene*. Questa formula è quella che si chiama “**banda passante B**”.

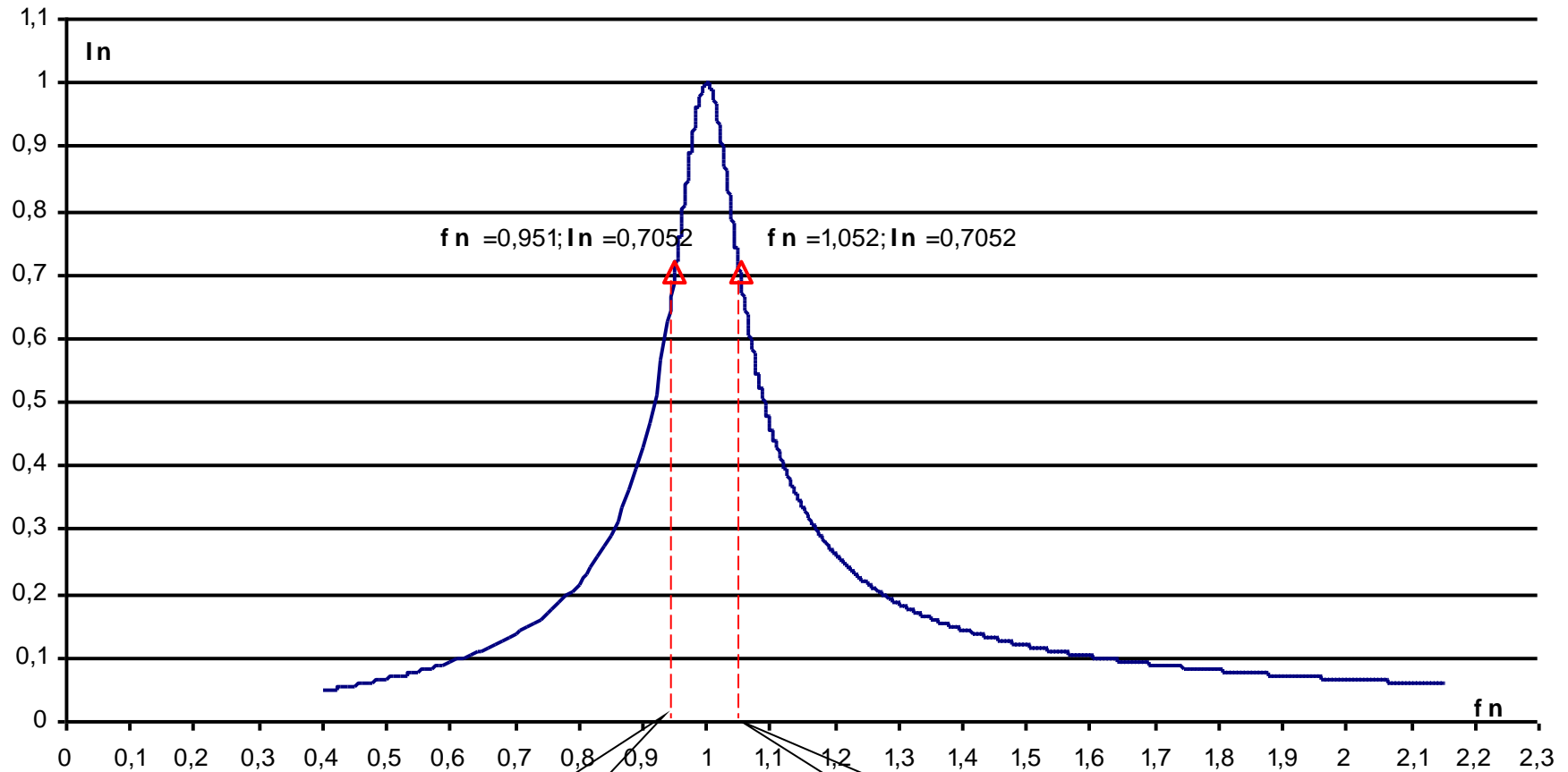
La sua definizione è la seguente:

“B è l'insieme di frequenze comprese tra una minima  $f_L = \text{Low frequency}$  ed una massima  $f_H = \text{High frequency}$ ”. Le due frequenze citate sono quelle alle quali la corrente  $I$  diventa uguale a

$$I = \frac{I_0}{\sqrt{2}}$$

La formula di B è la seguente:  $B = f_H - f_L = \frac{f_0}{Q}$  Il grafico corrispondente è il seguente

**Q=10**



$$f_L = 0,951 * f_0$$

$$f_H = 1,051 * f_0$$



Le reti elettriche in alternata  
(R-L-C serie) — banda passante

Nell'esempio della figura precedente si ricava che la banda passante è compresa tra  $f_L=0,951 \cdot f_0$  e  $f_H=1,051 \cdot f_0$ . In corrispondenza di queste due frequenze la corrente massima, cioè di risonanza  $I_0$ , diventa uguale a  $0,707 \cdot I_0$

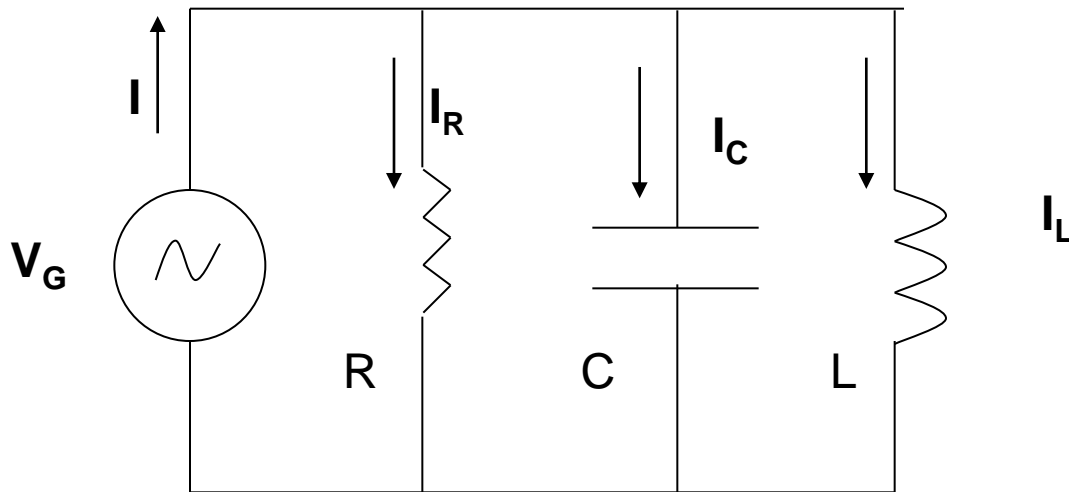
In questo esercizio risulta verificata la formula data in precedenza. Supponiamo che  $f_0 = 100$  Hz con il valore di  $Q= 10$  che abbiamo già preso come esempio.

$$B = f_H - f_L = \frac{f_0}{Q}$$

$$B = 1,051 \cdot f_0 - 0,951 \cdot f_0 = 1,051 \cdot 100 - 0,951 \cdot 100 = 105,1 - 95,1 = 10 \text{ Hz}$$

$$B = \frac{f_0}{Q} = \frac{100}{10} = 10 \text{ Hz}$$

## Le reti elettriche in alternata (R-L-C parallelo)



In questo circuito abbiamo componenti in parallelo per cui la tensione è unica  $V_G$ , ed abbiamo tre correnti tra le quali scriviamo subito l'equazione di Kirchoff.

$$V_G = V_R = V_C = V_L$$

$$\vec{I} = \vec{I}_R + \vec{I}_C + \vec{I}_L$$

$$\frac{\vec{V}_G}{\vec{Z}} = \frac{\vec{V}_R}{R} + \frac{\vec{V}_C}{\vec{X}_C} + \frac{\vec{V}_L}{\vec{X}_L}$$

$$\frac{1}{\vec{Z}} = \frac{1}{R} + \frac{1}{\vec{X}_C} + \frac{1}{\vec{X}_L}$$

$$\vec{Y} = G + \vec{B}_C + \vec{B}_L$$

$$\vec{I} = \vec{I}_R + \vec{I}_C + \vec{I}_L$$

Da questa equazione ricaviamo quella dell'impedenza  $Z$  del circuito.

A differenza del circuito serie si somma tra loro la conduttanza  $G$  e le suscettanze  $B_C$  e  $B_L$

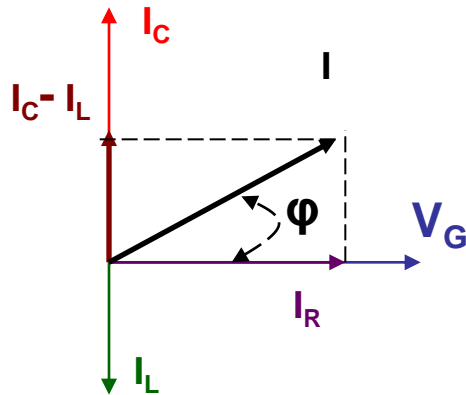
## Le reti elettriche in alternata (R-L-C parallelo)

Anche in questo circuito possiamo distinguere tre casi:

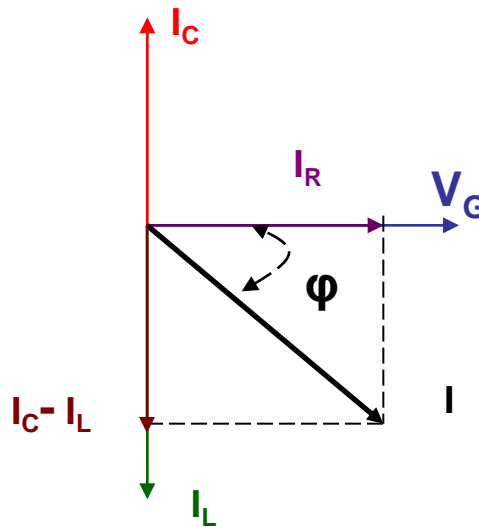
1. Se  $X_L > X_C$  la corrente  $I_C > I_L$  quindi il circuito si comporta da R-C;
2. Se  $X_L < X_C$  la corrente  $I_L > I_C$  quindi il circuito si comporta da R-L;
3. Se  $X_L = X_C$  la corrente  $I_C = I_L$  quindi il circuito si comporta da resistivo.

Verifichiamo con i diagrammi vettoriali.

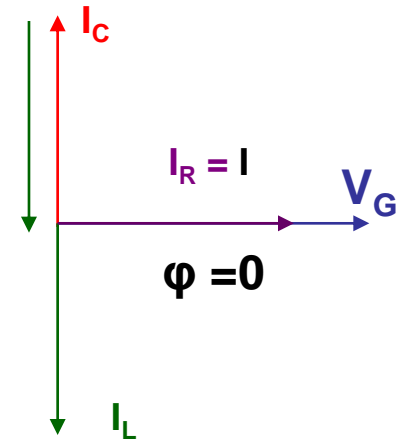
1



2



3



## Le reti elettriche in alternata (R-L-C parallelo)

Il comportamento alla **risonanza** è duale a quello studiato nel circuito serie. Si possono fare le seguenti affermazioni:

1.  $X_C = -X_L$  quindi il loro parallelo è infinito;
2. La frequenza di risonanza ha la stessa formula del circuito serie;
3. Le correnti che attraversano sia C che L sono uguali in modulo e sfasate di  $180^\circ$ .
4. L'impedenza Z del parallelo tra R, C ed L è uguale alla resistenza R ed è il valore massimo raggiungibile;
5. La corrente I che esce dal generatore raggiunge il valore minimo;
6. Il fattore Q si calcola:  $Q = R / X$  ( X può essere indifferentemente  $X_C$  oppure  $X_L$  dato che sono uguali. Questa formula è l'inversa di quella del circuito serie.